


Vooraf:



Volg bij dit examen exact de instructies op. Doe dus geen dingen die niet gevraagd worden.

Amber woont weer alleen

Amber (22) woont weer alleen. Het is uit met haar vriend. Behalve verdriet levert dat ook financiële narigheid op. Elke maand heeft ze forse problemen om rond te komen. Maar ze wil aan haar financiële moeilijkheden een eind maken. Daarom heeft ze een begroting gemaakt. Die heeft ze overgenomen in het tabblad 'uitgaven'.

Bij deze opgaven moet je gebruikmaken van het Excelwerkblad 'Amber woont weer alleen'.

 *Klik in het openingsscherm op 'Amber woont weer alleen'.*

- 1p **25** *Ga naar het tabblad 'Uitgaven'*
Wat ingevuld is in het tabblad 'Uitgaven' wordt automatisch overgenomen in het tabblad 'Soort uitgave'.
Bij de cellen 'Boodschappen' en 'Huur' heeft Amber alleen nog maar het bedrag ingevuld.
 *Klik in de witte cel achter 'Boodschappen'. Klik op het zwarte driehoekje achter de cel en kies hoe vaak je deze uitgave doet.*
Doe nu hetzelfde voor 'Huur'.
→ Neem nu het totaalbedrag aan uitgaven over op je antwoordblad.
- 2p **26** *Ga naar het tabblad 'Soort uitgave'.*
Wat ingevuld is in het tabblad 'Uitgaven' wordt automatisch overgenomen in het tabblad 'Soort uitgave'.
Amber heeft ook een verdeling van haar uitgaven gemaakt in huishoudelijke uitgaven, vaste lasten, en incidentele uitgaven.
Bij 'Abonnementen' en 'Kleding' heeft Amber nog niet het soort uitgave vermeld.
 *Klik in de witte cel achter 'Abonnementen'. Klik op het zwarte driehoekje achter de cel en kies de soort uitgave.*
Doe nu hetzelfde voor 'Kleding'.
→ Neem nu de volgende drie bedragen over op je antwoordblad:
– het totaal van de huishoudelijke uitgaven
– het totaal van de vaste lasten
– het totaal van de incidentele uitgaven


- 1p **27** Nu is het tijd om ook de inkomsten te noteren
Ga naar het tabblad 'Totaal uitgaven en inkomsten'.
De bedragen van de tabbladen 'Uitgaven' en 'Soort uitgave' zijn automatisch overgenomen in het tabblad 'Totaal uitgaven en inkomsten'.
Amber krijgt netto € 800 vakantiegeld per jaar.
→ Vul dit bedrag in (linksonder in het tabblad) en geef op papier aan **welke formule** je moet invullen om het maandbedrag te krijgen. Vul deze formule in cel E22 in.
- 1p **28** Amber heeft een nettoloon van € 980 per maand. Ze ontvangt een huurtoeslag van € 138 per maand. Aan zorgtoeslag krijgt ze € 46 per maand.
Je werkt nog steeds in het tabblad 'Totaal uitgaven en inkomsten'.
De bedragen van de tabbladen 'Uitgaven' en 'Soort uitgave' zijn automatisch overgenomen in het tabblad 'Totaal uitgaven en inkomsten'.
Neem de bedragen die hierboven staan over en lees rechtsonder het begrote maandelijkse tekort van Amber af.
→ Neem het totaal aan inkomsten en het tekort over op je antwoordblad.
- 1p **29** Amber ziet nu zwart op wit hoe groot haar maandelijks tekort is. Ze denkt erover geld te lenen om dit tekort aan te vullen. Eerst gaat ze echter het NIBUD raadplegen.
De informatie van het NIBUD heeft Amber opgenomen in het tabblad 'Resultaten NIBUD'.
Ga naar het tabblad 'Resultaten NIBUD'.
Ze moet nog de cel achter 'Totaal NIBUD' invullen.
→ Vul de juiste formule in deze cel in en schrijf op je antwoordblad het getal dat dan verschijnt.
- 1p **30** Amber is benieuwd naar het verschil tussen haar begroting en de resultaten van het NIBUD.
Gebruik de tabbladen 'Totaal uitgaven en inkomsten' en 'Resultaten NIBUD'.
→ Hoeveel bedraagt het verschil tussen haar begroting en de resultaten van het NIBUD?
Schrijf je antwoord op je antwoordblad.
Dat kan je uitrekenen door in de cellen in het tabblad 'Resultaten NIBUD' de juiste formule of het juiste getal in te vullen. Je kunt ook je berekening op je antwoordblad opschrijven.
- 2p **31** Amber schrikt er van! Ze ziet dat de uitgaven op haar begroting veel hoger zijn dan de uitgaven die genoemd worden door het NIBUD. Ze moest maar eens gaan bezuinigen, besluit ze dapper.
→ Noem twee posten waarop Amber kan bezuinigen.
- 1p **32** Noem een uitgave waarop Amber op korte termijn niet kan bezuinigen. Geef een argument.

- 1p 33 Wat kan Amber het beste doen? Lenen of bezuinigen?
Geef een argument voor je keuze.

 Sluit nu Excel af, zonder gegevens op te slaan.

Het tweede huis onder de zon

 Klik in het openingsscherm op '**Het tweede huis onder de zon**'.
Het IB-aangifteprogramma opent nu automatisch. Aan het jaartal 2004 hoef je geen aandacht te schenken.


 Klik op de knop 'Open bestand', rechtsonder in het scherm.
Kies voor 'een bestaande aangifte'.

Kies voor het overzicht van Henk Arentz en Maaïke Baakman. Lees het overzicht nauwkeurig door en beantwoord de vragen.

Henk en Maaïke doen aangifte voor de inkomstenbelasting met het aangifteprogramma. Ze hebben twee jaar geleden een erfenis van een oom gekregen. Hiervan hebben ze een tweede huisje in Zeeland gekocht. De waarde daarvan kan je terugvinden in box 3 onder 'Bezittingen' bij overige onroerende zaken.

- 1p 34 Hoeveel procent is het huisje in Zeeland vorig jaar meer waard geworden?
Neem de waardes van 1 januari en 31 december over op je antwoordblad en schrijf je berekening op.
- 1p 35 Henk ziet op het overzicht van Maaïke dat Maaïke ook geld van de belasting terugkrijgt, terwijl Maaïke geen inkomsten heeft.
→ Waarom krijgt Maaïke ook geld terug van de belastingdienst?
- 2p 36 Maaïke vraagt zich af hoeveel ze meer of minder zouden terugkrijgen als ze het tweede huis niet hadden.
Lees bij 'Verdelen' af hoeveel geld Henk en Maaïke van de belasting terugkrijgen volgens deze aangifte. Noteer het bedrag op je antwoordblad.
Bepaal daarna hoeveel Henk en Maaïke terugontvangen als ze het tweede huis **niet** zouden hebben.
→ Hoeveel bedraagt het verschil?

- 2p **37** Maaïke ziet dat ze minder geld van de belasting terugkrijgen omdat ze een tweede huis hebben. Henk stelt daarom voor om het tweede huis een paar weken per jaar aan vrienden en familie te gaan verhuren, om dit negatieve belastingeffect op te heffen. De huuropbrengst van een tweede huis is namelijk belastingvrij.
Henk en Maaïke stellen voor om het huisje voor € 200 per gehele week te gaan verhuren.
→ Hoeveel weken moeten ze het huisje dan minimaal per jaar verhuren om het effect van minder belastingteruggave op te heffen?
Geef de berekening en rond je antwoord af op hele weken.
- 1p **38** Henk stelt voor om het huisje méér weken per jaar te gaan verhuren. Dat levert uiteraard meer geld op. Dan kunnen ze misschien een autootje kopen.
→ Geef naast het meerdere geld nog een argument om het huisje meer weken per jaar te verhuren dan het aantal dat je in de vorige vraag berekend hebt.

 *Sluit nu het belastingprogramma af. Kies voor 'Stoppen' in het openingsscherm.*

Dit was de laatste vraag van het deel waarbij de computer wordt gebruikt.