

Examenopgaven VMBO-GL en TL

2004

tijdvak 1
dinsdag 1 juni
9.00 – 11.00 uur

ECONOMIE CSE GL EN TL

ECONOMIE VBO-MAVO D

Bij dit examen hoort een bijlage met 11 informatiebronnen.

Dit examen bestaat uit 39 vragen.

Voor dit examen zijn maximaal 58 punten te behalen.

Voor elk vraagnummer staat hoeveel punten maximaal behaald kunnen worden.

● **Meerkeuzevragen**

Schrijf alleen de hoofdletter van het goede antwoord op.

CONSUMENTENBOND, GOEDE MIDDAG!

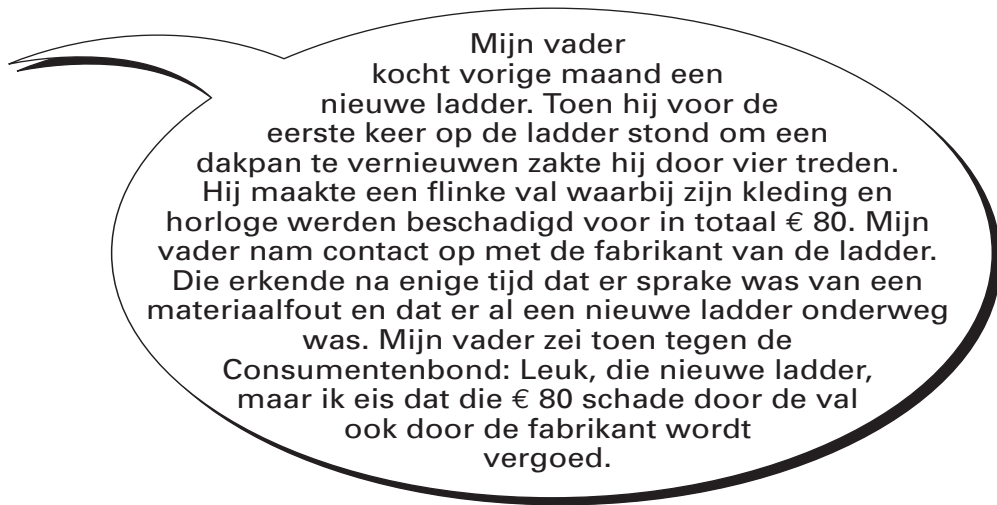
Bij de beantwoording van de vragen 1 tot en met 5 hoef je géén gebruik te maken van informatie in de bijlage.

Consumentenbond

De leerlingen van klas 4A van het Thea Rusman College krijgen een rondleiding bij de Consumentenbond. De rondleiding wordt verzorgd door Arno Damen.

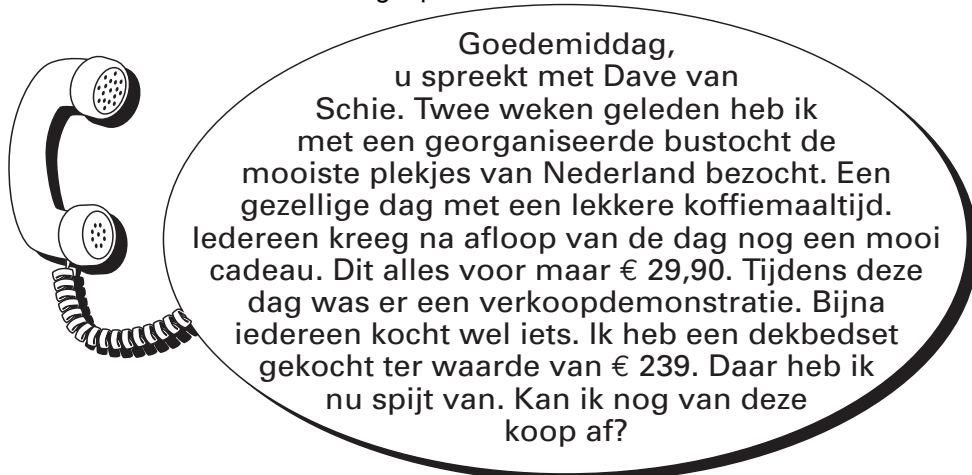
- 2p ○ 1 Arno: "Hartelijk welkom allemaal bij deze rondleiding. Graag wil ik eerst iets vertellen over de Consumentenbond. De Consumentenbond is een(1).... vereniging die de belangen van(2).... behartigt. De bond doet dit onder meer door onderzoek naar en voorlichting over kwaliteiten en prijzen van goederen en diensten."
Hieronder staan vijf woorden:
- afhankelijke
 - consumenten
 - de overheid
 - onafhankelijke
 - producenten
- Welk woord moet bij(1).... worden ingevuld en welk woord bij(2).... ?
- 1p ● 2 Arno: "Wie van jullie kan een taak opnoemen van de Consumentenbond?"
Een aantal leerlingen steekt de vinger op:
- Ilse: "De Consumentenbond geeft juridisch advies."
 - Kay: "De Consumentenbond helpt je als je ontslagen wordt."
 - Tim: "De Consumentenbond waarschuwt bij misleidende reclame."
- Welke leerling(en) heeft / hebben gelijk?
- A** alleen Ilse
 - B** alleen Kay
 - C** alleen Tim
 - D** alleen Ilse en Kay
 - E** alleen Ilse en Tim
 - F** alleen Kay en Tim

- 1p ● 3 Arno en de klas lopen naar de afdeling klantenservice. Hier worden telefonische vragen van de leden beantwoord.
Arno vraagt: "Heeft iemand van jullie of je familie wel eens de klantenservice gebeld?"
Tim steekt zijn vinger op en vertelt het verhaal van zijn vader.



Zal de Consumentenbond de vader van Tim gelijk geven? Verklaar je antwoord.

- A Ja, want volgens de Prijzenwet heeft de vader van Tim met de aanschafprijs van de ladder ook betaald voor dit soort risico's.
 - B Ja, want volgens de regels van de consumentenkoop moet de fabrikant niet alleen de ladder vergoeden, maar ook de schade die ontstaat bij het gebruik.
 - C Nee, want volgens de Prijzenwet moet de vader van Tim zich apart tegen dit soort risico's verzekeren.
 - D Nee, want volgens de regels van de consumentenkoop is de fabrikant alleen verantwoordelijk voor de levering van een goed product.
- 1p ● 4 Op de afdeling klantenservice komt een telefoongesprek binnen. Arno: "Laten we even meeluisteren naar dit telefoongesprek."



Wat zal het antwoord van de Consumentenbond zijn op de vraag bij dit telefoongesprek?

- A Ja, u kunt de koopovereenkomst per aangetekende brief opzeggen.
- B Ja, want het aankoopbedrag is hoger dan € 34.
- C Nee, helaas is de afkoelingsperiode verstreken.
- D Nee, want er is sprake van een georganiseerde verkoop.

- 2p ○ 5 Aan het eind van de rondleiding krijgen de leerlingen allemaal een gratis Consumentengids. Daarin zit een aanbiedingsbon voor de ouders: voor de komende **15 maanden** betaal je maar € 45 voor het ontvangen van de Consumentengids. De prijs voor een normaal jaarabonnement bedraagt € 40. De Consumentengids komt elke maand uit.
→ Hoe groot is bij deze aanbieding de korting, in euro's, per exemplaar van de Consumentengids? Laat de berekening zien.

DE EUROPESE UNIE GROEIT

Bij de beantwoording van de vragen 6 tot en met 10 hoef je géén gebruik te maken van informatie in de bijlage.

In Europa streeft een groot aantal landen naar eenwording in de vorm van een economische en monetaire unie. In een krant van 2002 staat daarover het volgende:

Meer landen willen toetreden tot de EU

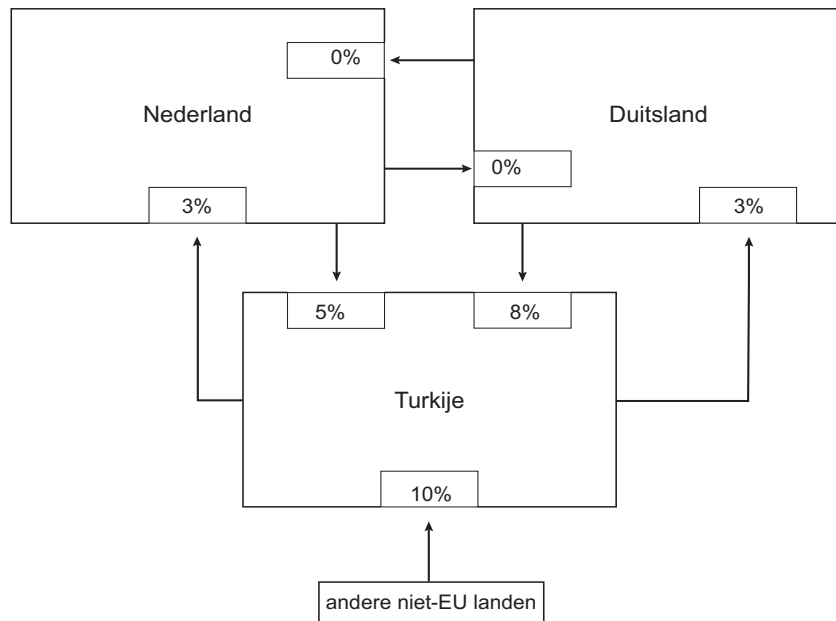
Tot de landen die willen toetreden tot de EU behoren o.a. Hongarije, Polen, Tsjechië, Slowakije en Slovenië. Ook Turkije wil op termijn lid worden van de EU.

Toetreding tot de EU betekent voor deze landen:

- vorming van een douane-unie, dat wil zeggen dat er tussen de lidstaten vrijhandel is en dat alle lidstaten voor goederen en diensten uit niet-EU landen een gelijk invoerrecht rekenen;
- vrij verkeer van personen en kapitaal.

- 1p ○ 6 In een **economische** unie is er vrij verkeer van goederen, diensten, personen en kapitaal.
→ Noem het kenmerk van een **monetaire** unie.
- 2p ○ 7 Een aantal landen uit Midden- en Oost-Europa wil toetreden tot de Europese Unie (EU).
→ Leg uit dat door toetreding tot de EU de welvaart in die toetredende landen kan toenemen.
- 1p ● 8 Vooral Duitsland en Oostenrijk verwachten een grote toestroom van immigranten uit de grenslanden Hongarije, Polen, Slovenië, Slowakije en Tsjechië. Een Duitse tegenstander van de uitbreiding zegt: "Door het vrij verkeer van personen zal onze koopkracht dalen."
Hieronder staan drie tussenstappen:
1 lagere lonen
2 meer immigranten
3 groter aanbod van arbeidskrachten
In welke van de onderstaande regels staan de tussenstappen in een zodanige volgorde dat ze de gedachtegang van de tegenstander goed weergeven?
A vrij verkeer van personen → 1 → 2 → 3 → koopkrachtdaling
B vrij verkeer van personen → 1 → 3 → 2 → koopkrachtdaling
C vrij verkeer van personen → 2 → 1 → 3 → koopkrachtdaling
D vrij verkeer van personen → 2 → 3 → 1 → koopkrachtdaling
E vrij verkeer van personen → 3 → 1 → 2 → koopkrachtdaling
F vrij verkeer van personen → 3 → 2 → 1 → koopkrachtdaling

- 2p ○ 9 Een kenmerk van een economische unie is: één gemeenschappelijk buitentarief. Dat betekent dat in alle lidstaten van de EU hetzelfde invoerrecht geldt voor een product dat wordt ingevoerd uit een niet-EU land. Stel dat voor de handel tussen Nederland, Duitsland en Turkije de onderstaande figuur geldt:



Legenda:

→ een product wordt uitgevoerd van een land naar een ander land

3% het importerende land heft 3% invoerrechten

→ Uit welke twee gegevens in de bovenstaande figuur blijkt dat Nederland en Duitsland al lid zijn van de EU?

- 1p ● 10 Wat gaat er veranderen aan de invoerrechten van Turkije, als Turkije lid is van de EU?
- A de invoerrechten 5%, 8% en 10% worden 0%
 - B de invoerrechten 5%, 8% en 10% worden 3%
 - C de invoerrechten 5% en 8% worden 0% en het invoerrecht 10% wordt 3%
 - D de invoerrechten 5% en 8% worden 3% en het invoerrecht 10% wordt 0%

GELD TERUG

Bij de beantwoording van de vragen 11 tot en met 14 moet je soms gebruikmaken van informatie 1 en 2 in de bijlage.

Michiel Dijkstra, 20 jaar en ongehuwd, studeert aan de HBO-lerarenopleiding in Amsterdam. Hij woont nog thuis bij zijn ouders.
In 2001 heeft Michiel een tijdje op vrijdag en zaterdag bij een supermarkt gewerkt. Daarna had hij een deeltijdbaan bij een school. Hij denkt dat hij over 2001 belasting kan terugvragen. Daarom vraagt hij een Tj-formulier aan en vult dit in.

- 1p ● 11 Bij het invullen van het Tj-formulier gebruikt Michiel de jaarpogaven. Het valt hem op dat door de supermarkt géén loonheffing is ingehouden. Wat kan daarvoor een juiste verklaring zijn?
- A Het bedrag aan loonheffing was lager dan de algemene heffingskorting.
 - B Michiel werkte blijkbaar zwart bij de supermarkt.
 - C Michiel woont nog thuis bij zijn ouders.
 - D Toen Michiel bij de supermarkt werkte was hij jonger dan 21 jaar.

Gebruik informatie 1 en 2 bij de vragen 12 tot en met 14.

- 3p ○ 12 → Hoeveel krijgt Michiel terug van de Belastingdienst? Gebruik daartoe het onderstaande schema uit het Tj-formulier.
- Achter elk wit vak staat een letter. Neem de letters A, B, E, F, G en H over op je antwoordpapier en zet er de juiste bedragen bij.

HOEVEEL KRIJG JE TERUG?

Je loon. *Neem over van de jaarpogaven.* € A

Vermenigvuldigen: A met 0,3235
 $\frac{\text{€ } \boxed{}}{0,3235 \times} \rightarrow \text{€ } \boxed{} \text{ B}$

Je ingehouden loonheffing. € 902 C

Algemene heffingskorting. *Dit is een vast bedrag.* € 1.576 D

Verrekende arbeidskorting. *Kijk op de jaarpogaven.* € E

Optellen: D plus E. Totaal heffingskortingen
 $\text{€ } \boxed{} \text{ D} + \text{€ } \boxed{} \text{ E} \rightarrow \text{€ } \boxed{} \text{ F}$

Aftrekken: B min F. *Is het bedrag negatief? Vul dan 0 in.*
 $\text{€ } \boxed{} \text{ B} - \text{€ } \boxed{} \text{ F} \rightarrow \text{€ } \boxed{} \text{ G}$

Aftrekken: C min G. *Als dit bedrag hoger is dan € 12 dan maakt de Belastingdienst het bedrag over op je rekening.*
 $\text{€ } \boxed{} \text{ C} - \text{€ } \boxed{} \text{ G} \rightarrow \text{€ } \boxed{} \text{ H}$

- 2p ○ 13 Michiel heeft het Tj-formulier ingevuld en opgestuurd. Maanden later ontdekt Michiel dat de kosten die hij maakte voor zijn studie, als aftrekpost gelden. Michiel ontving in 2001 een basisbeurs van € 802,56. Hij schrijft een brief aan de Belastingdienst en vraagt daarin om een herziening van het bedrag van de teruggave.
→ Hoe groot is in 2001 de totale aftrekpost in verband met de studie van Michiel? Laat de berekening zien.
- 1p ● 14 Stel de Belastingdienst geeft Michiel gelijk. Wat zal er dan voor hem veranderen?
A Zijn belastbaar inkomen wordt lager.
B Zijn belastingteruggave wordt lager.
C Zijn bruto inkomen wordt lager.
D Zijn heffingskortingen worden hoger.

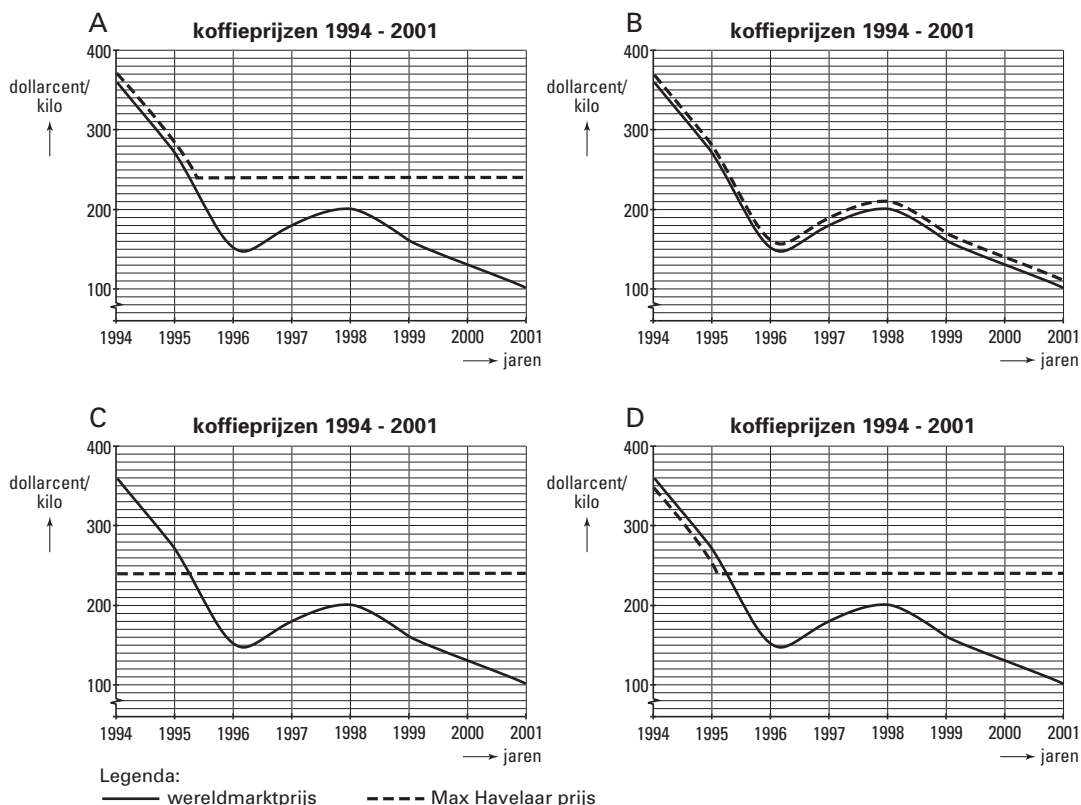
ANDERE KOFFIE?

Bij de beantwoording van de vragen 15 tot en met 20 moet je soms gebruikmaken van informatie 3 en 4 in de bijlage.

Klas 4B heeft economieles. De leraar, de heer Witkamp, heeft het over ontwikkelingslanden. "Koffie is voor een aantal ontwikkelingslanden het belangrijkste exportproduct," beweert hij. De prijs van koffie op de wereldmarkt is de laatste jaren zeer sterk gedaald. Was de prijs in 1994 nog 360 dollarcent per kilogram, in 2000 was dat nog maar 130 dollarcent.

- 2p ○ 15 → Met hoeveel procent is de koffieprijs tussen 1994 en 2000 gedaald? Laat de berekening zien en rond de uitkomst af op een heel getal.
- 1p ○ 16 → Waarom is de dalende koffieprijs vooral een probleem voor landen met een monocultuur?
- 1p ● 17 Een manier om de prijs van koffie te stabiliseren op een redelijk niveau is het aanleggen van buffervoorraden.
Wat moet er met deze buffervoorraden gebeuren als de prijs van koffie gaat zakken onder een redelijk niveau?
A De buffervoorraad moet vergroot worden, zodat het aanbod van koffie toeneemt.
B De buffervoorraad moet vergroot worden, zodat het aanbod van koffie afneemt.
C De buffervoorraad moet verkleind worden, zodat het aanbod van koffie toeneemt.
D De buffervoorraad moet verkleind worden, zodat het aanbod van koffie afneemt.

Max Havelaar is een organisatie die koffie verkoopt en de boeren een 'eerlijke' prijs betaalt. Volgens de heer Witkamp kunnen wij de boeren uit de ontwikkelingslanden helpen door koffie te kopen met het Max Havelaar keurmerk.



Gebruik informatie 3 bij de vragen 18 en 19.

1p ● 18 In welke grafiek is de ontwikkeling van de prijs voor Max Havelaar koffie in de periode 1994 – 2001 juist weergegeven?

- A grafiek A
- B grafiek B
- C grafiek C
- D grafiek D

1p ● 19 Max Havelaar heeft veel kritiek op de 'gewone' koffie-industrie, zoals Douwe Egberts: "De industrie betaalt een hele lage prijs voor de koffie en strijkt zelf de winst op."

Douwe Egberts ziet niets in het betalen van een hogere koffieprijs aan de boeren: "Een minimumprijs voor koffie zal juist leiden tot lagere inkomens voor alle koffieboeren."

Hieronder staan drie tussenstappen:

- 1 de wereldmarktprijs daalt
- 2 er ontstaat overproductie
- 3 er komen meer aanbieders van koffie

In welke van de onderstaande regels staan de tussenstappen in een zodanige volgorde dat ze de gedachtegang van Douwe Egberts goed weergeven?

- A minimumprijs voor koffie → 1 → 2 → 3 → lagere inkomens voor koffieboeren
- B minimumprijs voor koffie → 1 → 3 → 2 → lagere inkomens voor koffieboeren
- C minimumprijs voor koffie → 2 → 1 → 3 → lagere inkomens voor koffieboeren
- D minimumprijs voor koffie → 2 → 3 → 1 → lagere inkomens voor koffieboeren
- E minimumprijs voor koffie → 3 → 1 → 2 → lagere inkomens voor koffieboeren
- F minimumprijs voor koffie → 3 → 2 → 1 → lagere inkomens voor koffieboeren

Gebruik informatie 4.

3p ○ 20

Ramon, een leerling uit de klas, ziet op het bureau van mijnheer Witkamp een leeg koffiekopje staan: "Drinken onze docenten wel Max Havelaar koffie?" Mijnheer Witkamp moet toegeven dat dit niet het geval is. Klas 4B besluit alle docenten een e-mail te sturen om hen op te roepen Max Havelaar koffie te gaan drinken. Ze rekenen met behulp van de gegevens in informatie 4 uit dat de prijs van een gewoon kopje koffie voor een docent aan hun school € 0,025 is.

→ Maak de tekst voor deze e-mail door het onderstaande schema verder in te vullen. *Neem op je antwoordpapier de regels (1), (2), (3) over en vul de juiste getallen in. Schrijf daarna op je antwoordpapier de rest van de zin bij (4) op.*

ANDERE KOFFIE - Bericht (HTML)

Bestand Bewerken Beeld Invvoegen Opmaak Extra Acties Help

Verzenden

Aan... DOCENTEN

CC... LAKS

Onderwerp: ANDERE KOFFIE

Geachte docenten,

Als u besluit voortaan Max Havelaar koffie te gaan drinken, dan zult u per kopje koffie iets meer moeten betalen.

Wij rekenen voor alle docenten samen: (1) : totaal aantal koppen koffie per dag: x =

(2) : kosten pakken Max Havelaar per dag: x € = €

(3) : per kopje koffie bedragen de kosten: ----- = €

Maar daarmee steunt u dan wel de boeren in de ontwikkelingslanden, want

(4)

bij voorbaat dank
klas 4B van het Floretcollege

NIEUWE POLITIEK?

Bij de beantwoording van de vragen 21 tot en met 26 moet je soms gebruikmaken van informatie 5 en 6 in de bijlage.

In 2002 kreeg Pim Fortuyn veel aandacht met zijn kritiek op het beleid van de regering Kok. In het verkiezingsprogramma deed de Lijst Pim Fortuyn (LPF) voorstellen voor grote veranderingen in de economie, de sociale voorzieningen, het onderwijs, de volksgezondheid en het bestuursapparaat.

Gebruik informatie 5.

- 1p ● 21 Volgens de LPF wilde de regering in 2002 te veel geld laten uitgeven door de ministeries van Onderwijs, Cultuur en Wetenschappen en Volksgezondheid, Welzijn en Sport. Hoeveel geven deze twee ministeries samen uit in procenten van het totaal van de uitgaven voor 2002?
- A minder dan 10%
 - B tussen 10% en 30%
 - C tussen 30% en 50%
 - D méér dan 50%

Gebruik informatie 6.

- 1p ● 22 De LPF deed ook enkele voorstellen voor belastingverlaging voor bedrijven. Welke **directe** belasting zou de LPF willen verlagen?
- A dividendbelasting
 - B kansspelbelasting
 - C loon- en inkomstenbelasting
 - D successierechten
 - E vennootschapsbelasting

Gebruik informatie 5.

- 1p ● 23 Een schatting van de gevolgen van de voorstellen van de LPF voor de rijksbegroting 2002 leverde het volgende op:
- de totale rijksuitgaven zouden dan met 20% dalen;
 - de totale rijksontvangsten zouden met 10% dalen.
- Wat zou het gevolg zijn, als de plannen van de LPF in de rijksbegroting van 2002 verwerkt zouden worden?
- A Het begrotingstekort zou groter worden.
 - B Het begrotingstekort zou een overschot worden.
 - C Het begrotingsoverschot zou kleiner worden.
 - D Het begrotingsoverschot zou groter worden.

- 2p ○ 24 → Leg uit dat lagere belastingen voor bedrijven op den duur kunnen leiden tot méér belastinginkomsten voor de rijksoverheid.

- 1p ○ 25 De LPF stelde voor om van de NS weer een staatsbedrijf te maken. Dat zou volgens de LPF op termijn zelfs gunstig zijn voor de schatkist. Een politicus van een andere partij was het daarmee niet eens: "De NS weer in handen van de staat: dat zal de rijksoverheid meer geld gaan kosten, dan dat het oplevert."
- Met wie ben jij het eens: met de LPF of met de politicus van een andere partij? Geef een argument voor je keuze.

Gebruik informatie 6.

- 2p ○ **26** De LPF kreeg veel kritiek op haar voorstellen. Groen Links vond dat een bepaald voorstel van de LPF over de sociale zekerheid zou leiden tot denivellering in ons land.
→ Noem dit voorstel en leg uit hoe dit voorstel kan leiden tot denivellering in Nederland.

VOORDELIG CD'S KOPEN

Bij de beantwoording van de vragen 27 tot en met 30 moet je soms gebruikmaken van informatie 7 in de bijlage.

Reinout en Jornt zijn allebei 16 jaar. In hun vrije tijd houden ze zich bezig met muziek. De prijs van een cd in de muziekwinkel vinden ze veel te hoog. Ze zoeken daarom op het internet naar muziek. Sommige nieuwe cd's die nog niet in Nederland verkrijgbaar zijn, bestellen ze in de Verenigde Staten.

- 1p ○ **27** → Waarom is de prijs van een cd uit een muziekwinkel hoger dan de prijs die je betaalt als je diezelfde cd via internet bestelt?
- 1p ● **28** Reinout en Jornt bestellen in 2002 via internet een box met drie nieuwe cd's in de Verenigde Staten. Deze box kost \$ 44,97, inclusief verzendkosten.

	inkoop	verkoop
koers van 1 Amerikaanse dollar	€ 0,99809	€ 1,01624

Hoeveel kost deze box in euro's?

- A** € 44,25
B € 44,88
C € 45,06
D € 45,70

Gebruik informatie 7.

- 2p ○ **29** In Nederlandse muziekwinkels zal dezelfde box over twee weken ook verkrijgbaar zijn: consumentenprijs € 62,95. De vader van Reinout herinnert ze eraan dat ze de douanerechten en de BTW niet moeten vergeten als ze de prijzen gaan vergelijken. De twee jongens hadden hier nog niet aan gedacht.
→ Hoeveel moeten Reinout en Jornt, inclusief douanerechten en BTW, uiteindelijk betalen om deze box uit de Verenigde Staten te ontvangen? Laat de berekening zien.
- 1p ○ **30** Vader zegt: "Als je de prijzen vergelijkt, is het niet echt de moeite waard om deze box in de Verenigde Staten te bestellen."
→ Ben je het met vader eens? Verklaar je antwoord.

LONDON, HERE WE COME

Bij de beantwoording van de vragen 31 tot en met 35 moet je soms gebruikmaken van informatie 8 tot en met 10 in de bijlage.

Katja (17) is geslaagd. Samen met haar vriendin Wendy (17) doet ze vakantiewerk om daarna met zijn tweeën op vakantie te kunnen naar Londen. Ze willen in de laatste week van juli samen een 8-daagse reis maken met 7 overnachtingen op camping Abbey Wood. Katja en Wendy maken een begroting van hun vakantie. Dankzij vakantiewerk en geld van de ouders hebben ze in totaal € 960 te besteden voor deze vakantie. De kosten van de heen- en terugreis per boot en trein bedragen € 198 voor Katja en Wendy samen. Ze nemen een tweepersoonstent mee.

Gebruik informatie 8.

- 1p ● **31** Katja en Wendy sluiten samen een reisverzekering af op één polis. Ze nemen alleen de basisdekking inclusief geneeskundige kosten.
Hoeveel betalen Katja en Wendy in totaal aan de verzekeringsmaatschappij?
- A € 9,12
 - B € 10,23
 - C € 14,36
 - D € 14,59
 - E € 16,58
 - F € 16,82

Gebruik informatie 9.

- 1p ● **32** Katja wil haar gitaar, ter waarde van € 199, en de videocamera van haar vader, ter waarde van € 1.235, mee op reis nemen. Stel dat in Londen de gitaar en de videocamera gestolen worden. Hoeveel wordt dan door de reisverzekering vergoed?
- A € 100
 - B € 199
 - C € 299
 - D € 1.135
 - E € 1.334
 - F € 1.434

Gebruik informatie 10.

- 2p ○ **33** Het volgende punt op de begroting zijn de kosten van het verblijf op de camping.
→ Hoe hoog zijn deze kosten **in euro's** voor Katja en Wendy samen? Laat de berekening zien.
- 2p ○ **34** Katja en Wendy willen nu nog bekijken hoeveel geld ze die week voor 'levensonderhoud' hebben.
→ Hoeveel van het te besteden bedrag blijft over voor 'levensonderhoud'? Laat de berekening zien.

- 2p ○ **35** Katja haalt haar tent van zolder. Er blijkt een grote scheur in te zitten. Ze besluit om zelf meteen een nieuwe tent te kopen. Katja zegt: “We zetten het hele aankoopbedrag op de begroting.” Wendy zegt: “Ik vind dat maar een deel van het aankoopbedrag op onze begroting moet komen.”
→ Geef **eerst** een argument voor het standpunt van Katja en geef **daarna** een argument voor het standpunt van Wendy.

VERZEKERD BROMMEN

*Bij de beantwoording van de vragen 36 tot en met 39 moet je **altijd** gebruikmaken van informatie 11 in de bijlage.*

Eindelijk is het 23 maart 2003. Jasper is 16 jaar geworden en heeft van zijn ouders een nieuwe bromscooter gekregen. Nu kan hij trots door de straten van zijn woonplaats Amsterdam rijden. Maar dan moet hij eerst op zoek naar een goede verzekering voor zijn nieuwe vervoermiddel. De bromscooter heeft een cataloguswaarde van € 2.000.

- 2p ○ **36** De hoogte van de premie die betaald moet worden voor een bromscooterverzekering is mede afhankelijk van de keuze tussen WA of WA+casco.
→ Noem twee **andere** factoren die de hoogte van deze premie kunnen bepalen.
- 1p ○ **37** Jasper vindt op internet een overzicht van verschillende verzekeringen (informatie 11). Hij vergelijkt de hoogte van de premies. Het valt hem op dat de hoogte van de premie bij de WA+cascoverzekering afhankelijk is van de cataloguswaarde van de bromscooter. Bij de WA-verzekering is dat niet het geval.
→ Waarom is bij de WA-verzekering de hoogte van de premie **niet** afhankelijk van de cataloguswaarde van de bromscooter?
- 2p ○ **38** Jasper vergelijkt de verschillende verzekeringen met elkaar. Hij kiest voor de goedkoopste WA+cascoverzekering: Paris. Na 10 maanden wordt de bromscooter van Jasper gestolen, ondanks het goedgekeurde slot.
→ Hoe hoog is het bedrag dat Jasper uitgekeerd krijgt van de verzekeringsmaatschappij? Laat de berekening zien.
- 2p ○ **39** Na de diefstal vraagt Jasper zich af of hij wel de juiste keuze heeft gemaakt. Zijn vriend Evert zegt: “Als ik in informatie 11 kijk naar de premies en de uitkeringsregels, had jij beter kunnen kiezen voor Zomerdeur.”
→ Welke afweging maakt Evert blijkbaar, als hij de premies en de uitkeringsregels vergelijkt?