

De Nederlanders en hun vakantiebestemmingen

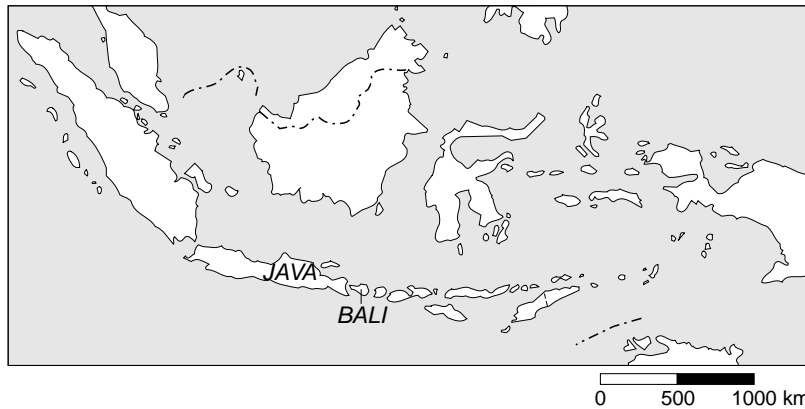
bron 1

Spotprent naar aanleiding van de klimaatconferentie op Bali in 2007



bron 2

Bali en Java



- 1p 1 Eind 2007 werd één van de meest toeristische eilanden van Indonesië, Bali, uitgekozen voor een bijeenkomst van vele politici uit de hele wereld. Het belangrijkste agendapunt was het terugdringen van de wereldwijde CO₂-uitstoot. De cartoon (bron 1) drijft de spot met dit agendapunt.
→ Wat wil de tekenaar met deze spotprent aangeven?

bron 3

Enkele landschappen

foto P



foto Q



foto R



foto S



- 1p 2 Indonesië heeft op veel vakantiegangers een enorme aantrekkingskracht. Eén van de redenen voor deze aantrekkingskracht is het landschap. De foto's P, Q, R en S van bron 3 tonen enkele landschappen. Welke foto is het meest kenmerkend voor het landschap op Java en Bali?

- A foto P
- B foto Q
- C foto R
- D foto S

- 1p **3** Niet iedereen gaat met vakantie.
Hoe hoog was in 2008 de vakantiedeelname in Nederland?
A ongeveer 20%
B ongeveer 50%
C ongeveer 80%
D ongeveer 100%
- 1p **4** In Nederland kennen we vakantiespreiding.
 → Wat is het voordeel hiervan voor de Nederlandse toeristische attractiepunten?

bron 4

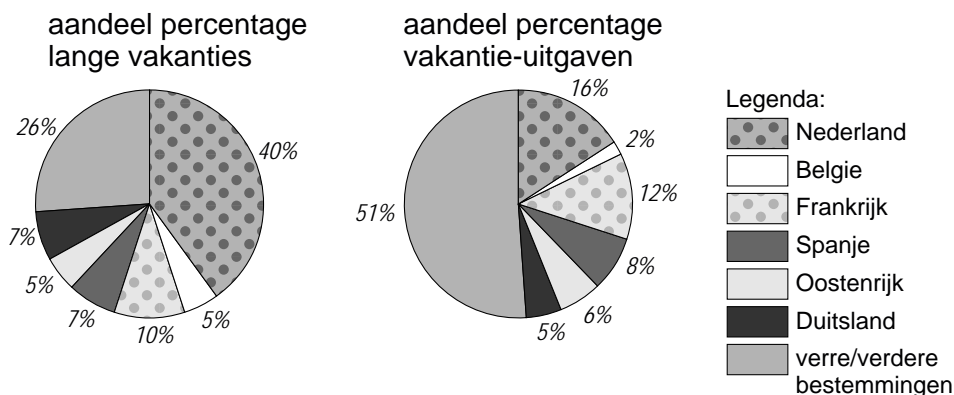
Korte en lange vakanties van Nederlanders in Nederland en het buitenland, 2005

	eenheid	lange vakanties		korte vakanties	
		Nederland	Buitenland	Nederland	Buitenland
totaal aantal vakanties	mln	8,5	13,8	8,9	3,3
w.v.					
winterperiode	mln	2,6	5,0	4,2	1,9
zomerperiode	mln	5,9	8,8	4,7	1,4
gemiddelde verblijfsduur	dagen	10,0	12,9	3,2	3,3
aantal overnachtingen	mln	76,4	164,3	19,2	7,5
uitgaven	mld euro	1,7	9,6	0,8	0,7

- 2p **5** De tabel van bron 4 geeft onder andere informatie over het aantal lange en het aantal korte vakanties van Nederlanders in Nederland en in het buitenland. Hieronder staan drie uitspraken over bron 4.
- 1 Er is een groot verschil tussen de gemiddelde verblijfsduur van korte vakanties in Nederland en korte vakanties in het buitenland.
 - 2 Het aantal korte vakanties naar het buitenland is het grootst in de winterperiode.
 - 3 Het aantal lange vakanties naar het buitenland is het grootst in de zomerperiode.
- Neem de cijfers 1, 2 en 3 over op het antwoordblad en zet erachter of deze uitspraak juist is of onjuist.

bron 5

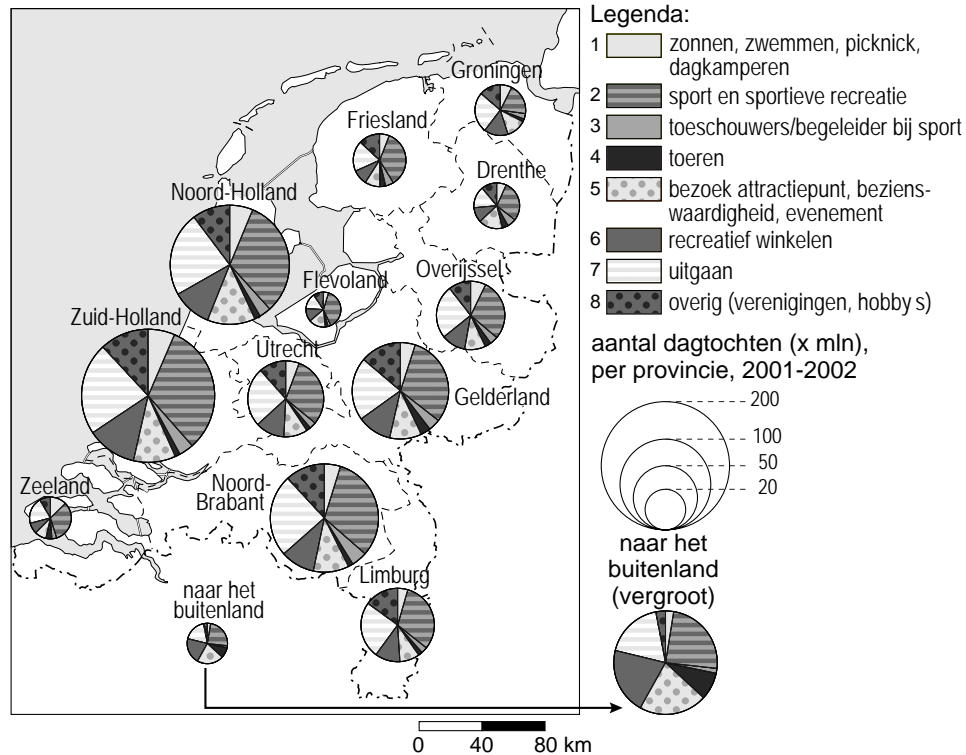
Aandeel lange vakanties naar bestemming en vakantie-uitgaven van Nederlanders in 2005



- 1p **6** De diagrammen in bron 5 hebben betrekking op het aandeel lange vakanties van Nederlanders en de vakantie-uitgaven van Nederlanders in 2005. Vergelijk de diagrammen met elkaar. In welk land geven Nederlanders naar verhouding het meeste geld uit?
- A België
 - B Duitsland
 - C Frankrijk
 - D Spanje
- 1p **7** Als je de beide diagrammen met elkaar vergelijkt, valt het op dat slechts 26% van de Nederlanders op vakantie gaat naar verre/verdere bestemmingen, terwijl er 51% van alle uitgaven heengaat.
→ Geef een reden voor deze hogere uitgaven.
- 1p **8** De Veluwe en Veluwerand behoren tot de top drie van belangrijkste toeristische bestemmingen in Nederland. Welk van onderstaande gebieden behoort ook tot deze top drie?
- A de Achterhoek
 - B de Noordzeebadplaatsen
 - C de Waddeneilanden
 - D Zuid-Limburg

bron 6

Aantal en type dagtochten



- 1p **9** Hieronder staan twee uitspraken naar aanleiding van bron 6.
- 1 Binnen de provincies Noord-Holland en Zuid-Holland worden veel meer dagtochten gemaakt dan binnen de provincies Friesland en Flevoland.
 - 2 Nederlanders die een dagtocht naar het buitenland maken, doen dat vooral om te zonnen, te zwemmen en te picknicken.
- Neem de cijfers 1 en 2 over op het antwoordblad en zet erachter of deze uitspraak juist is of onjuist.
- 1p **10** → Als je naar de verschillende provincies kijkt, welk type dagtocht is dan het populairste?

bron 7

Skiën en de Alpen sparen

Al geboekt, het weekje sporten in de sneeuw? Gezond voor u, maar niet voor de bergen. De Alpen zijn 's winters het dichtstbevolkte berggebied ter wereld en die drukte laat sporen na.

- 2p 11 Bron 7 beschrijft de drukte in de Alpen in de winterperiode. Deze drukte heeft verschillende negatieve gevolgen voor het Alpengebied. Een voorbeeld daarvan is de rommel die de mensen achterlaten.
→ Geef twee andere voorbeelden van negatieve gevolgen.

bron 8

Het opknappen van een school in Sri Lanka



- 2p 12 Er zijn in Nederland verschillende organisaties die geheel verzorgde werkvakanties naar bijvoorbeeld Sri Lanka (zie bron 8) aanbieden. Werkvakanties worden steeds populairder. Bij dit soort vakanties bezoekt men niet alleen een land of gebied, maar men werkt er ook één of enkele weken aan een bepaald project. Dat kan het opknappen van een school zijn (zie bron 8), de aanleg van een weg of het graven van greppels voor een nieuw irrigatiesysteem. All-inclusive vakanties zijn geheel anders dan deze zogenaamde werkvakanties.
→ Noem twee verschillen tussen de hierboven beschreven werkvakantie en een all-inclusive vakantie.

bron 9

Es viva España!

Dominique en **Xavier**, 17 en 18 jaar oud, zeggen een te gekke reis gemaakt te hebben door Spanje. Een verslag van hun reis.

Een maand lang reisden wij door Spanje met een interrailkaart. We sliepen in jeugdherbergen. Het was een reis om nooit te vergeten.

Xavier: "Onze reis begon in Eindhoven. Daar namen we de trein naar Barcelona, waar we vijf dagen bleven. Een geweldige stad met veel prachtige oude gebouwen. Vanuit Barcelona maakten we vervolgens een reis met de trein door Spanje. Als eerste gingen we naar Sevilla."

Dominique: "Een te gekke stad. Veel disco's, lekkere eettentjes en leuke boetiekjes. Ook hebben we de grote kermis een paar keer bezocht."

Xavier: "Na vijf dagen zijn we vanuit Sevilla verder gereisd naar Granada. We kwamen daar ook veel oudere vakantiegangers tegen, vaak lopend op bergschoenen. Maar ja, die heb je ook wel nodig met al die bergen. En natuurlijk hebben we in Granada een bezoek gebracht aan het Alhambra, een oud Moors paleis."

Dominique: "Na een weekje Granada zijn we verder getrokken naar Torremolinos. In de vele reisfolders die we hadden ingekeken, werd dit als een soort paradijs beschreven. Voortdurend mooi weer en prachtige stranden. En dat hebben we geweten. Overdag lekker luieren aan het strand en s' avonds stappen in de vele discotheken. We kwamen er erg veel Nederlanders tegen."

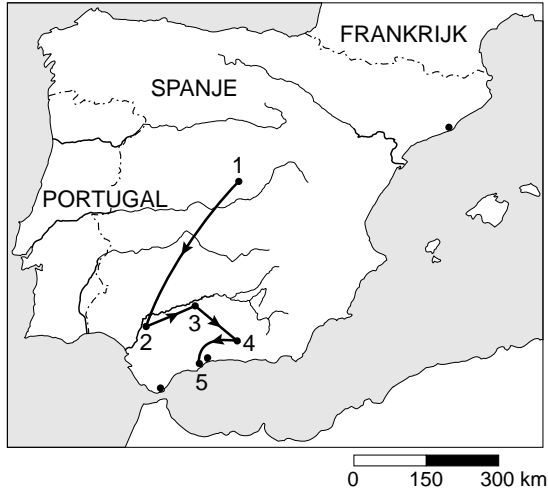
Xavier: "Na tien dagen Torremolinos zijn we naar Malaga gereisd, waarvandaan we het vliegtuig namen naar Schiphol. Onze vakantie zat er op. Al met al een fantastische reis."

- 1p **13** Dominique en Xavier hebben een te gekke reis gemaakt door Spanje. Ze hebben daarbij heel wat steden bezocht (zie bron 9). Op welke kaart van bron 10 (hiernaast) is de reis die Dominique en Xavier hebben gemaakt juist ingetekend?
- A kaart K
 - B kaart L
 - C kaart M
 - D kaart N

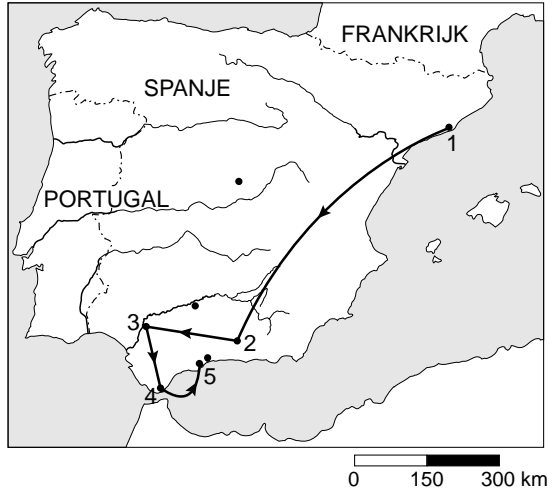
bron 10

Vier kaarten van Spanje

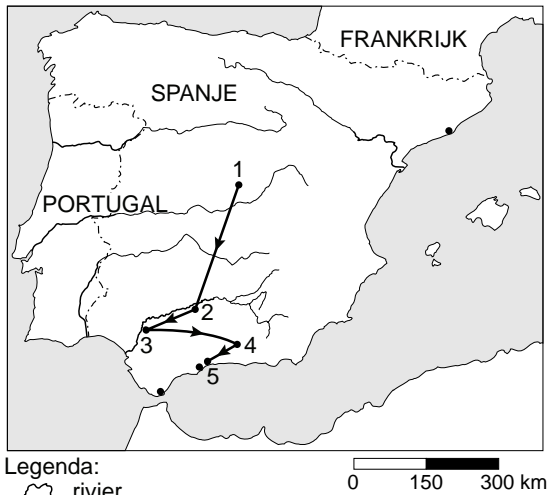
kaart K



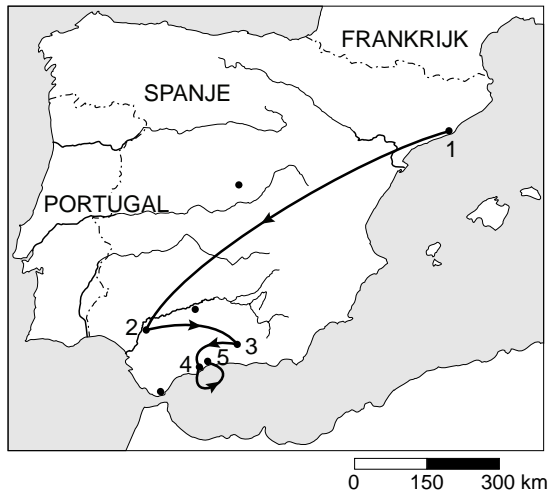
kaart L



kaart M



kaart N



Legenda:
~ rivier
• plaats
→ reisroute

- 1p **14** In de tekst van bron 9 staan voorbeelden van bezienswaardigheden die te maken hebben met de cultuur van Spanje.
→ Noem zo'n voorbeeld.

bron 11

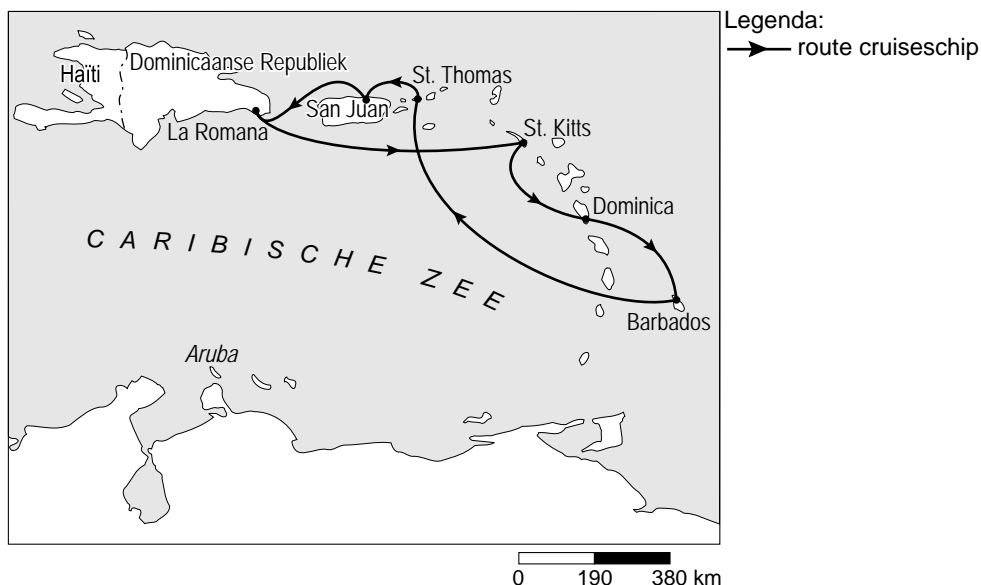
Een besneeuwde top



- 1p 15 Dominique en Xavier maakten tijdens hun reis ook foto's. Waar op hun reis (zie de tekst van bron 9) is de foto van bron 11 genomen?
- A in de omgeving van Barcelona
 - B in de omgeving van Granada
 - C in de omgeving van Sevilla
 - D in de omgeving van Torremolinos

bron 12

Een deel van het Caribisch gebied



- 1p 16 Het zuidelijk Caribisch gebied is één van de populairste cruisegebieden ter wereld.
Het cruiseschip de “Carnival Destiny” deed op zijn route ook altijd het eiland Aruba aan. Maar sinds januari 2008 is Aruba geschrapt als bestemming op de route door het zuidelijke gedeelte van de Caribische Zee.
Om een rondvaart met de “Carnival Destiny” aantrekkelijk te houden moest namelijk de prijs omlaag. Vandaar de nieuwe route.
→ Noem een reden met behulp van de kaart van bron 12 waarom de eigenaar van de “Carnival Destiny” van alle eilanden uitgerekend Aruba geschrapt zal hebben als bestemming.

bron 13

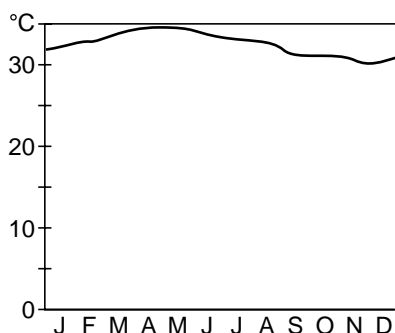
Hoeveel kan Aruba nog aan?

Aruba is één van de welvarendste eilanden in de regio door de grote inkomsten uit het toerisme. De kustlijn vanaf de hoofdstad Oranjestad in westelijke richting is volgebouwd met hotels, restaurants en casino's.
Ruimte is inmiddels schaars geworden.
Overbebouwing en verkeersopstoppingen vormen steeds grotere problemen.

- 1p 17 De toeristische ontwikkeling van een gebied verloopt in het algemeen volgens een aantal stadia.
In welk stadium van ontwikkeling zit Aruba volgens bron 13?
- A Aruba is bezig aan een herstel als toeristengebied.
 - B Aruba is duidelijk in opkomst als toeristengebied.
 - C Aruba maakt een grote bloei door als toeristengebied.
 - D Aruba staat op het punt om in verval te raken als toeristengebied.

- 1p **18** In bron 13 staat dat de kustlijn is volgebouwd met hotels, restaurants en casino's.
→ Hoe wordt zo'n kustlijn ook wel genoemd?
- 1p **19** Om het probleem van de overbebouwing niet verder te vergroten, ziet men op Aruba liever een toename van cruiseschippassagiers dan een toename van andere vakantiegangers.
→ Welk argument zal men hiervoor geven?

bron 14
Klimaatgrafiek Thailand



bron 15
Thailand



- 1p **20** De zusjes Iris en Jamie hebben in de aardrijkskundeles geleerd dat informatie in reisgidsen en reisfolders soms onjuist of onvolledig is. Ze willen een rondreis door Thailand maken.
Ze kijken dan ook extra kritisch naar de gidsen en de folders.
Zo ziet Iris in één van de reisgidsen een klimaatgrafiek van Thailand (zie bron 14). "Deze klimaatgrafiek geeft een onvolledig beeld", zegt zij.
→ Welk gegeven ontbreekt in deze grafiek?
- 2p **21** Jamie heeft moeite met het kaartje van bron 15.
Aan de hand van dit kaartje kan ze geen goede rondreis plannen door Thailand.
Er ontbreekt bij dit kaartje volgens haar een aantal gegevens die ze wel nodig heeft om zo'n rondreis te plannen.
→ Noem twee van deze gegevens.

bron 16

Folder 1: Vliegtarieven Bangkok

Vliegtarieven Bangkok

EVA AIR - Toeristen klasse

1 januari 2007	tot	28 februari 2007	€ 589
1 maart 2007	tot	31 maart 2007	€ 569
1 april 2007	tot	19 juni 2007	€ 489
20 juni	tot	29 juni 2007	€ 615
30 juni 2007	tot	20 augustus 2007	€ 859
21 augustus 2007	tot	30 september 2007	€ 535
1 oktober 2007	tot	14 december 2007	€ 615
15 december 2007	tot	3 januari 2008	€ 859
4 januari 2008	tot	31 januari 2008	€ 615
1 februari 2008	tot	31 maart 2008	€ 535

Inclusief 1 overnachting in het Eastin Hotel in Bangkok
 Geldigheid 1 maand. Minimum verblijf 1 week. Eva Air
 vliegt iedere dinsdag, woensdag, vrijdag en zondag.
 Vertrek vanaf Schiphol.
 In de zomer niet op dinsdag.

KLM

1 januari 2007	tot	31 maart 2007	€ 669
1 april 2007	tot	28 juni 2007	€ 549
29 juni 2007	tot	19 augustus 2007	€ 799
20 augustus 2007	tot	1 oktober 2007	€ 529

Inclusief 2 overnachtingen in het Eastin Hotel Bangkok en
 transfer vliegveld / hotel enkele reis.
 Dagelijks vertrek.

LTU

27 december 2006	tot	8 april 2007	€ 599
9 april 2007	tot	30 april 2007	€ 519
1 mei 2007	tot	21 juni 2007	€ 529
22 juni 2007	tot	2 september 2007	€ 615
3 september	tot	20 september 2007	€ 529
21 september	tot	31 oktober 2007	€ 615

4 x per week vertrek vanuit Düsseldorf.

Al deze airlines vliegen non-stop op Bangkok.
 Alle tarieven zijn exclusief airport tax en reserveringskosten
 en onder voorbehoud van wijziging.

bron 17

Folder 2: Royaal in de lucht

ROYAL BRUNEI

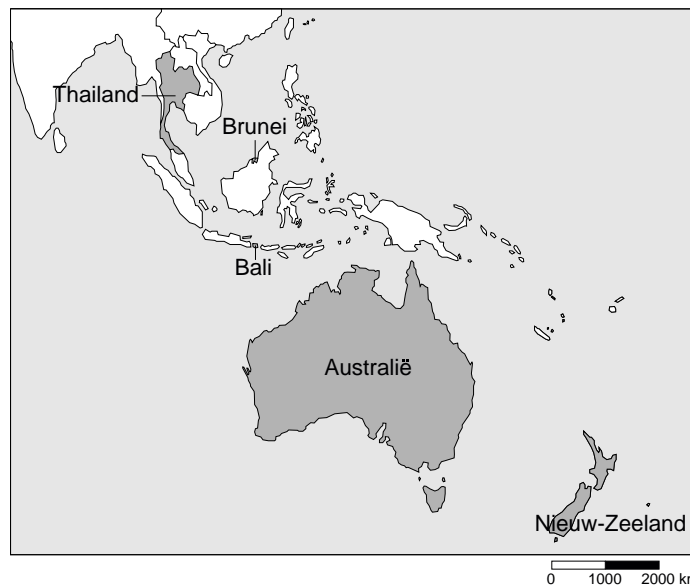
Royaal in de lucht

Denpasar (Bali)	vanaf € 540*
Brunei	vanaf € 520*
Bangkok (Thailand)	vanaf € 455*
Australië	vanaf € 680*
Nieuw Zeeland	vanaf € 800*

* het hele jaar en vanaf Frankfurt, exclusief toeslagen en treinkosten.

bron 18

Deel van de wereld



- 1p **22** De zusjes zien de vliegtarieven in twee folders (bron 16 en 17).
Naar aanleiding van deze folders komen zij tot een drietal conclusies:
- 1 De genoemde vluchten bij bron 16 zijn allemaal speciale groepsvluchten.
 - 2 Uit de tarieven van de maand april kun je afleiden dat deze maand bij alle drie de maatschappijen tot het hoogseizoen gerekend wordt.
 - 3 Uit bron 17 en 18 blijkt dat hoe groter de afstand van een vlucht is hoe duurder de vlucht is.

Welke conclusie is juist?

- A conclusie 1
- B conclusie 2
- C conclusie 3

- 2p **23** Bangkok lijkt Iris en Jamie wel wat.
Ze besluiten te kiezen voor een vlucht met Royal Brunei, omdat die maatschappij met 455 euro als goedkoopste uit de bus komt.
Hun vader is het niet met hen eens en wijst hen op een aantal zaken in bron 16 en 17 waardoor ze toch op een andere manier naar deze prijs kijken.
→ Noem eerst uit bron 16 en daarna uit bron 17 een aspect waarop de vader van Iris en Jamie hen gewezen zal hebben.