

- **Meerkeuzevragen**

Schrijf alleen de hoofdletter van het goede antwoord op.

MIGRATIE EN DE MULTICULTURELE SAMENLEVING

tekst 1

De gemeenschap van mijn overgrootvader vormt een van oudste minderheidsgroepen in Nederland. Rond 1890 kwamen de eersten om als stoker of kolenbrander in de koopvaardij te werken. Later werden ze pindakoekjesverkoper of restauranthouder zoals mijn overgrootvader.

tekst 2

Mijn opa en oma kwamen met hun kinderen in 1966 naar Nederland. Mijn opa heeft eerst in een fabriek gewerkt en is later een eigen bedrijf begonnen. Dat was een winkel in mediterrane producten. Mijn vader was 10 jaar toen hij naar Nederland kwam. Hij heeft nu een eigen restaurant.

tekst 3

Ik ben in 1996 aangekomen in Nederland samen met mijn zusje. Wij hoopten hier eindelijk rust te vinden na al die jaren ellende. Ik vind het vreselijk dat ik de rest van mijn familie moet missen. Na tien jaar voel ik mij nog altijd niet thuis in Nederland. Ondanks dat ik hier langer woon dan in mijn geboorteland.

tekst 4

Na de onafhankelijkheid in 1949 is mijn familie naar Nederland gekomen. Lange tijd hebben zij in pensions en opvangkampen gewoond. Daar wilden ze liever niet weg. Toch werden ze gedwongen om te verhuizen naar een woonwijk. Eigenlijk wil mijn familie nog altijd terug naar hun geboortegrond. Maar of dat er ooit nog van komt?

kaart 1

Herkomstgebieden van allochtonen



Legenda:
A = Turkije
B = Irak
C = China
D = Indonesië

De teksten 1, 2, 3 en 4 horen bij vier verschillende allochtone groepen in Nederland. Deze groepen zijn afkomstig uit vier verschillende landen. Deze landen staan op kaart 1 aangegeven met de letters A, B, C en D.

1p ● 1 Welke tekst hoort bij land C?

- A tekst 1
- B tekst 2
- C tekst 3
- D tekst 4

1p ● 2 Welke tekst hoort bij land D?

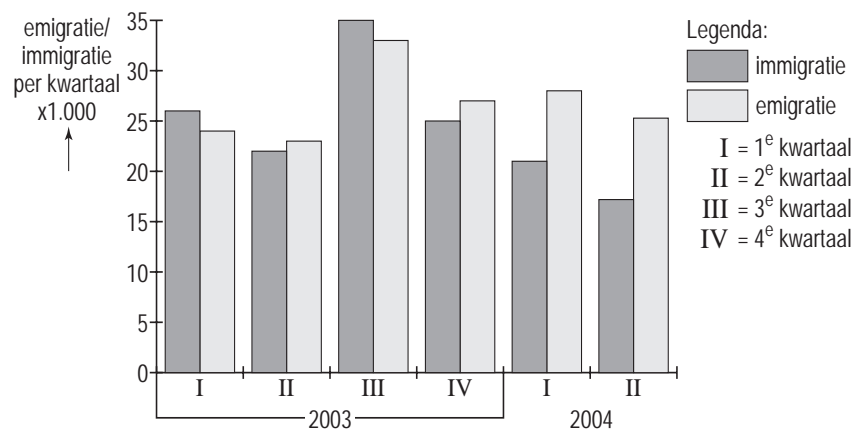
- A tekst 1
- B tekst 2
- C tekst 3
- D tekst 4

1p ● 3 Eén van de teksten is uitgesproken door een allochtoon van de eerste generatie. Welke tekst is dat?

- A tekst 1
- B tekst 2
- C tekst 3
- D tekst 4

diagram 1

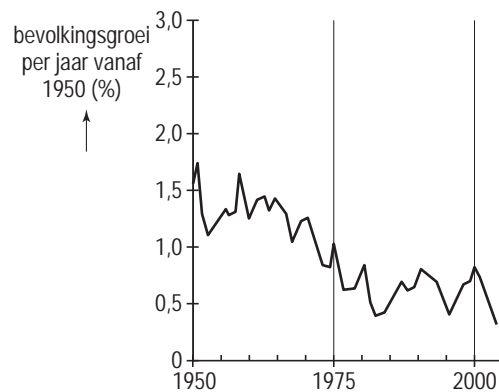
Emigratie en immigratie per kwartaal in absolute getallen in 2003 en 2004



- 1p ● 4 In het tweede kwartaal van 2004 (zie diagram 1) was er in Nederland sprake van een
- A positief migratiesaldo van 43.100.
 - B positief migratiesaldo van 7.700.
 - C negatief migratiesaldo van 43.100.
 - D negatief migratiesaldo van 7.700.

grafiek 1

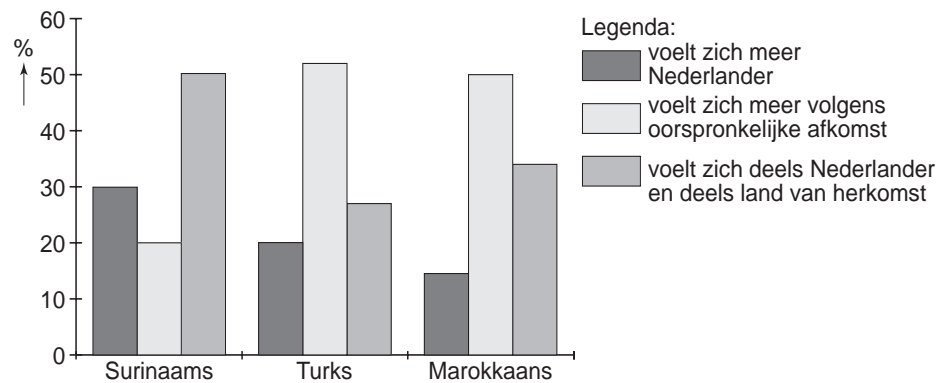
Bevolkingsgroei van Nederland in procenten, 1950- 2004



- 2p ○ 5 Uit grafiek 1 blijkt dat de bevolkingsgroei in 2004 mogelijk de laagste zou worden sinds 1950.
- Noem twee mogelijke oorzaken voor deze ontwikkeling.

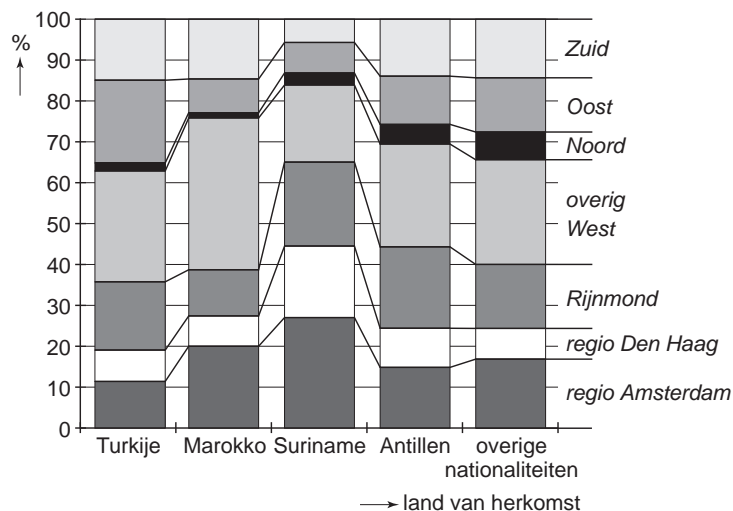
diagram 2

Voor hoeveel procent voelen Surinamers, Turken en Marokkanen zich Nederlander, 2002?



- 1p ● **6** In 2002 is aan Surinamers, Turken en Marokkanen in Amsterdam gevraagd voor hoeveel procent zij zich Nederlander voelen (zie diagram 2).
Welke uitspraak is juist?
- A** Marokkanen voelen zich veel meer Nederlander dan Surinamers.
 - B** Turken en Marokkanen hechten sterker aan hun afkomst dan Surinamers.
 - C** Door inburgeringscursussen verplicht te stellen zullen allochtonen zich volledig Nederlander gaan voelen.
- 1p ● **7** Het valt Joerie op dat ongeveer 50% van de allochtonen van Surinaamse afkomst zich zowel Nederlander als Surinamer voelt (zie diagram 2).
Wat is daarvoor de reden?
- A** Suriname heeft ongeveer hetzelfde klimaat als Nederland.
 - B** Suriname ligt dichterbij Nederland dan Marokko en Turkije.
 - C** Surinamers hebben dezelfde culturele achtergrond als Nederlanders.
 - D** Suriname was een deel van het Koninkrijk der Nederlanden.

diagram 3

Een onderzoek naar woonregio's van allochtonen in Nederland, 1996

- 1p ● **8** Diagram 3 toont de spreiding van allochtonen in Nederland in 1996 over de verschillende regio's. Deze kolommen zijn naar herkomst ingedeeld. Hier volgen drie uitspraken naar aanleiding van dit diagram.

- 1 Dit is een onderzoek uit 1996. Inmiddels is de spreiding van de allochtonen over Nederland sterk veranderd.
- 2 Voor Surinaamse allochtonen was in 1996 de regio Amsterdam de belangrijkste vestigingsplaats.
- 3 Bij het onderzoek in 1996 bleek dat Oost-Nederland de belangrijkste vestigingsplaats voor Marokkanen was.

Welke uitspraak is juist?

- A** uitspraak 1
B uitspraak 2
C uitspraak 3
- 1p ○ **9** Uit diagram 3 blijkt dat zich in Noord-Nederland relatief weinig allochtonen gevestigd hebben.
 → Geef hiervoor een reden.
- 1p ○ **10** De kolom overige nationaliteiten bevat ook asielzoekers.
 De spreiding van asielzoekers over Nederland is veel gelijkmatiger over de verschillende landsdelen dan die van andere allochtone groepen.
 → Wat is hiervoor een verklaring?

tekst 5

**Rotterdam verscherpt
woonregels**

Rotterdam gaat experimenteren met een aangescherpte woonvergunning. Nieuwe huurders in bepaalde buurten van Charlois, Feijenoord, Delfshaven en Centrum worden het komende halfjaar onder meer beoordeeld op inkomen en de grootte van het gezin.

- 1p 11 Het experiment van de gemeente Rotterdam om een aangescherpte woonvergunning in te voeren, roept gemengde reacties op.
Kun je mensen wel verbieden om in een bepaalde wijk te gaan wonen?
Jan vindt van wel. Hij is dan ook een voorstander van het plan.
Cees is het niet met Jan eens. Hij vindt het een slecht plan.
→ Met wie ben jij het eens? Kies eerst voor Jan of Cees en geef daarna een argument voor je keuze.

tekst 6

Allochtonen, een nieuwe consumentengroep

Allochtonen besteden geld in Nederland. Hoe groter de groep allochtonen, hoe meer geld er besteed wordt. Voor bedrijven wordt de groep allochtonen als consument steeds interessanter.

Wat hebben deze mensen te besteden, welke (andere) producten kopen zij en waar wonen ze? Er zijn bureaus die deze vragen onderzoeken. Deze bureaus doen onderzoek naar de wensen van allochtone groepen. Zij doen dat in opdracht van bedrijven die een nieuwe consumentengroep willen aanboren.

tabellen 1 en 2

tabel 1

Allochtonen in Nederland, 2003

| | |
|--------------------------------------|-----------|
| Turken | 330.709 |
| Marokkanen | 284.124 |
| Surinamers | 315.177 |
| Antillianen | 124.870 |
| Indonesiërs en Indische Nederlanders | 402.663 |
| Afrikanen | 177.792 |
| Aziaten | 267.750 |
| Latijns-Amerikanen | 104.685 |
| Totaal | 2.007.770 |

tabel 2

Besteedbare inkomens allochtonen, 2003

| | |
|--------------------------------------|----------------|
| Turken | € 1,6 miljard |
| Marokkanen | € 1,2 miljard |
| Surinamers | € 2,4 miljard |
| Antillianen | € 0,9 miljard |
| Indonesiërs en Indische Nederlanders | € 4,1 miljard |
| Afrikanen | € 1,0 miljard |
| Aziaten | € 2,0 miljard |
| Latijns-Amerikanen | € 0,9 miljard |
| Totaal | € 14,1 miljard |

- 1p ○ 12 Volgens het Centraal Bureau voor de Statistiek telde Nederland in 2003 zo'n drie miljoen personen met een niet-Nederlandse achtergrond. Zo'n één miljoen daarvan is afkomstig uit Europa of Noord-Amerika; deze één miljoen staat niet in de tabel. Deze één miljoen allochtonen uit Europa en Noord-Amerika zijn voor deze onderzoeksbureaus niet zo interessant.
→ Geef hiervoor een reden.
- 1p ● 13 Niet alleen het aantal mensen, maar ook het besteedbaar inkomen is interessant wanneer het om een nieuwe markt gaat. Bekijk tabel 1 en 2. Welke allochtone groep heeft gemiddeld per persoon het meest te besteden?
- A Turken
B Surinamers
C Indonesiërs en Indische Nederlanders
D Latijns-Amerikanen

foto 1

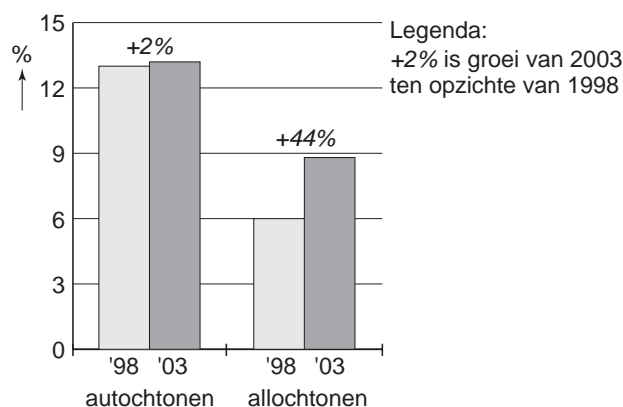
Allochtoon stort zich in zaken



- 1p ○ 14 Steeds meer allochtonen beginnen een eigen zaak. Ze zijn in de grote steden in veel wijken niet meer uit het straatbeeld weg te denken. Celal Oruç (zie foto) is eigenaar van een winkelketen in telecomapparatuur. Hij verwacht binnen een aantal jaren over ruim 40 winkels in Nederland te beschikken.
 → Geef een reden waarom Celal Oruç vooral allochtonen als klanten heeft.

diagram 4

Percentage autochtonen / allochtonen dat een bedrijf startte tussen 1998 en 2003



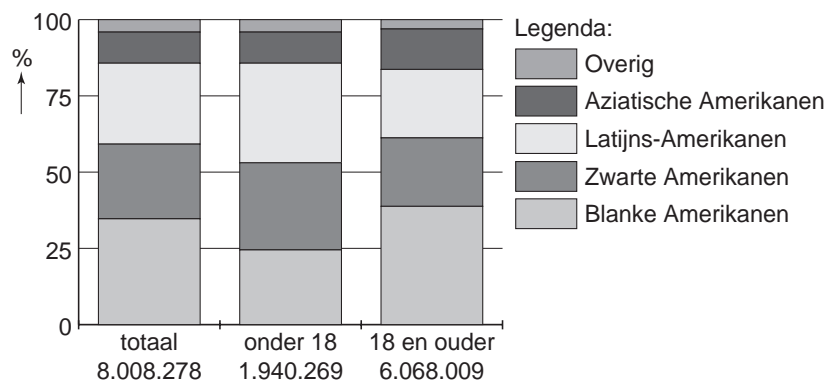
- 1p ○ 15 Diagram 4 toont de enorme groei van het percentage allochtonen met een eigen zaak in de periode 1998 - 2003. Deze groei heeft zich vooral voorgedaan in de vier grote steden.
 → Geef een reden waarom er een concentratie van allochtone ondernemers is in de grote steden.
- 1p ● 16 Zelfstandige ondernemers onder de allochtonen vinden we vooral in de grote steden. In welke bedrijfstak beginnen allochtonen vaak als zelfstandig ondernemer?
- A de handel
 - B de industrie
 - C de landbouw
 - D de zorg

tabel 3
Inwoners van New York, 2000

| | aantal | procent |
|-----------------------|---------------|----------------|
| Totale bevolking | 8.008.278 | 100,0 |
| Blanke Amerikanen | 2.801.267 | 35,0 |
| Zwarte Amerikanen | 1.962.154 | 24,0 |
| Latijns-Amerikanen* | 2.160.554 | 27,4 |
| Aziatische Amerikanen | 783.058 | 9,8 |
| Overig | 301.245 | 3,8 |

*Latijns-Amerikanen zijn afkomstig uit Midden-Amerika en Zuid-Amerika.

diagram 5
Bevolkingssamenstelling van New York, 2000



- 2p ○ 17 Tabel 3 en diagram 5 geven een overzicht van de bevolking van New York in 2000. Hieronder staan twee uitspraken naar aanleiding van tabel 3 en diagram 5.
- 1 De bevolking van New York is multicultureel.
 - 2 De niet-blanke New Yorkers vormen een minderheid van de bevolking van de stad.
- Neem de cijfers 1 en 2 over op het antwoordblad en zet erachter of deze uitspraak juist is of onjuist.
- 1p ○ 18 Nourdin en Tamara bestuderen diagram 5. Nourdin zegt dat in de nabije toekomst het aantal Latijns-Amerikanen van New York sterk zal toenemen. Tamara is het met haar eens. "De stad heeft een grote aantrekkingskracht, er zullen veel Latijns-Amerikanen naar New York trekken," zegt zij. Volgens Nourdin is er een andere reden voor een sterke groei van het aantal Latijns-Amerikanen van New York in de nabije toekomst.
- Wat is die reden? Gebruik bij je antwoord diagram 5.

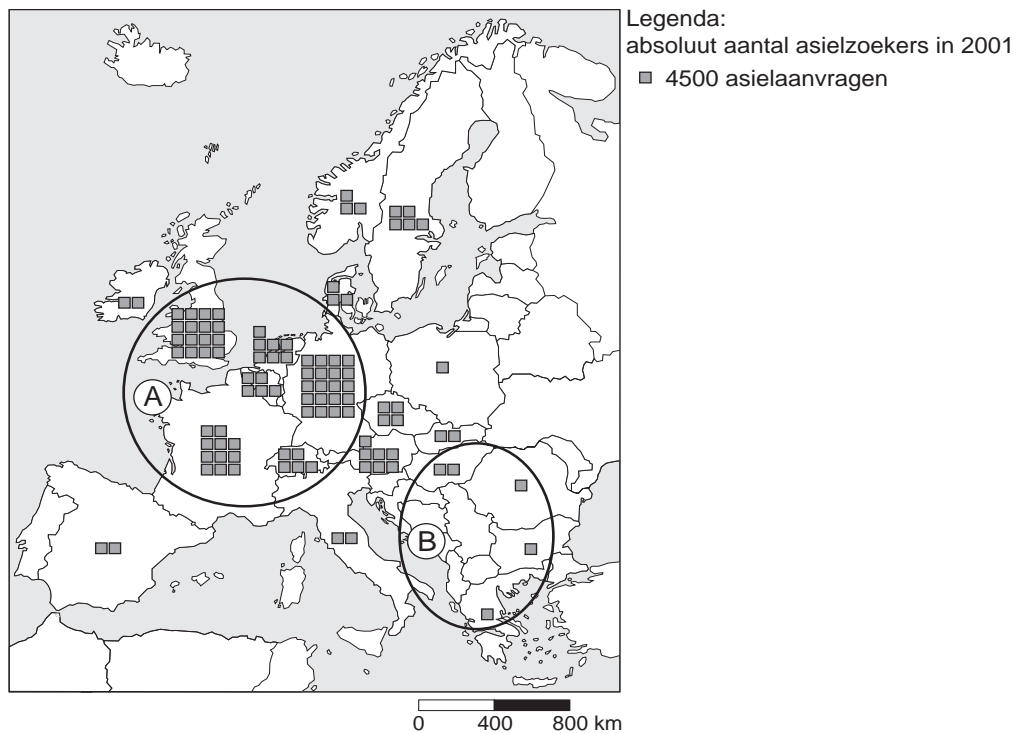
foto 2

Een plek in New York



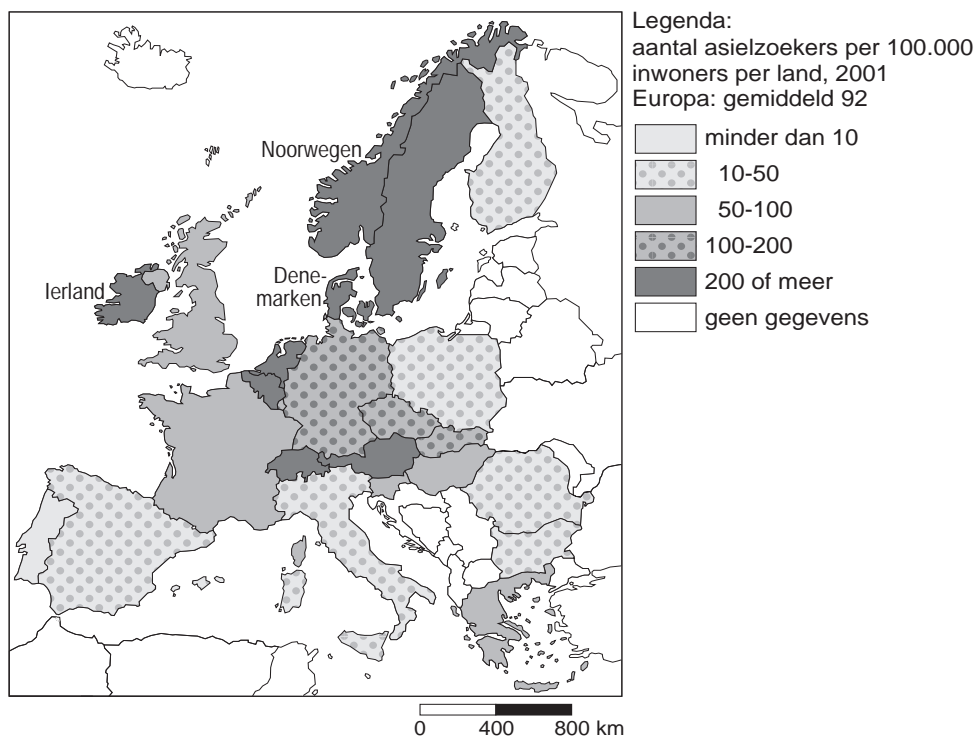
- 1p ● 19 Foto 2 is gemaakt in een bepaalde wijk in New York. De bewoners van de wijk op foto 2 bestaan vooral uit
- A Aziatische Amerikanen.
 - B Blanke Amerikanen.
 - C Latijns-Amerikanen.
 - D Zwarte Amerikanen.

kaart 2
Asielzoekers, absolute aantallen, 2001



1p ○ 20 → Noem een reden waarom er in de landen van gebied A in 2001 meer asielaanvragen werden gedaan dan in de landen van gebied B (zie kaart 2).

kaart 3
Aantal asielzoekers per 100.000 inwoners per land, 2001

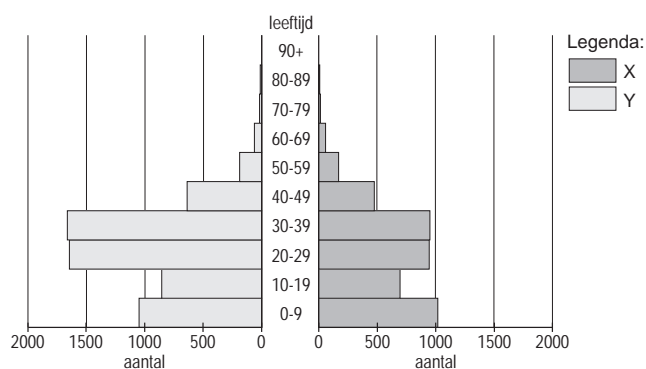


tabel 4
Bevolkingsaantallen (x 1000) van landen van Europa, 2001

| Landen | Aantal inwoners x 1000 | Landen | Aantal inwoners x 1000 |
|----------------------|---------------------------|------------------------|---------------------------|
| 1 Albanië | 3.510 | 20 Malta | 395 |
| 2 België | 10.259 | 21 Moldavië | 4.432 |
| 3 Bosnië-Hercegovina | 3.922 | 22 Nederland | 15.981 |
| 4 Bulgarije | 7.707 | 23 Noorwegen | 4.503 |
| 5 Denemarken | 5.353 | 24 Oekraïne | 48.760 |
| 6 Duitsland | 83.030 | 25 Oostenrijk | 8.151 |
| 7 Estland | 1.423 | 26 Polen | 38.634 |
| 8 Finland | 5.176 | 27 Portugal | 10.066 |
| 9 Frankrijk | 59.551 | 28 Roemenië | 22.364 |
| 10 Griekenland | 10.624 | 29 Rusland | 145.470 |
| 11 Hongarije | 10.106 | 30 Joegoslavië | 10.003 |
| 12 Ierland | 3.841 | 31 Slovenië | 1.930 |
| 13 IJsland | 278 | 32 Slowakije | 5.415 |
| 14 Italië | 57.680 | 33 Spanje | 40.038 |
| 15 Kroatië | 4.334 | 34 Tsjechië | 10.264 |
| 16 Letland | 2.385 | 35 Verenigd-Koninkrijk | 59.648 |
| 17 Litouwen | 3.611 | 36 Wit-Rusland | 10.350 |
| 18 Luxemburg | 443 | 37 Zweden | 8.875 |
| 19 Macedonië | 2.046 | 38 Zwitserland | 7.283 |

- 2p ○ 21 Op kaart 2 is te zien dat er in absolute aantallen slechts een beperkt aantal asiel-aanvragen in Ierland, Noorwegen en Denemarken wordt gedaan.
→ Geef twee redenen waarom genoemde landen op kaart 3 toch een relatief hoog aandeel asielzoekers hebben en daarmee in de hoogste categorie scoren. Gebruik hierbij ook tabel 4.

diagram 6
Asielzoekers in de stad Antwerpen, 2003



- 2p ○ 22 Uit diagram 6 blijkt dat de asielzoekers in Antwerpen vooral uit jongeren bestaan.
→ Geef hiervoor twee redenen.
- 1p ● 23 In welke leeftijdscategorie treffen we vooral AMA's aan (zie diagram 6)?
- A 0-9 jaar
 - B 10-19 jaar
 - C 20-29 jaar
 - D 30-39 jaar