

● **Meerkeuzevragen**

Schrijf alleen de hoofdletter van het goede antwoord op.

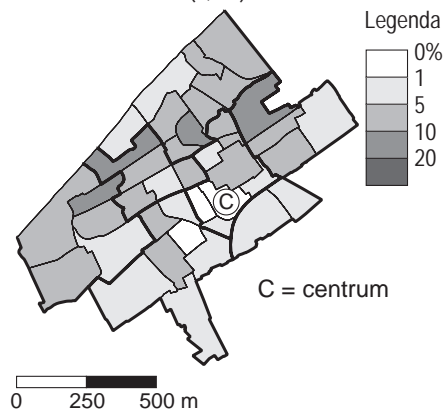
MIGRATIE EN DE MULTICULTURELE SAMENLEVING

kaarten 1 en 2

Spreiding allochtonen in Den Haag

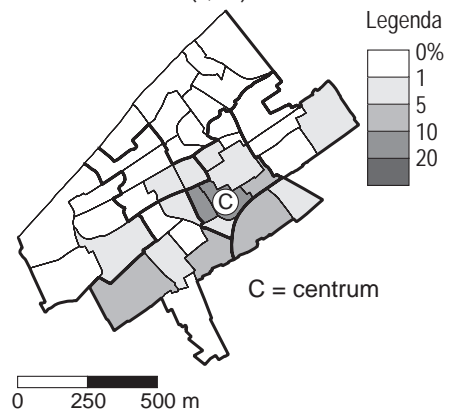
kaart 1

uit Indonesië
totaal aantal 'Indische'
allochtonen: 22 400 (5,1%)



kaart 2

uit Marokko
totaal aantal 'Marokkaanse'
allochtonen: 24 900 (5,7%)



1p ● 1 Rita heeft de kaarten 1 en 2 in haar werkstuk geplakt. Ze heeft er vier uitspraken onder geschreven. Bij het nakijken ontdekt haar aardrijkskundeleraar dat maar één uitspraak juist is.

Welke uitspraak is juist?

- A De ruimtelijke spreiding van Indische allochtonen en Marokkaanse allochtonen is vrijwel gelijk.
- B Als we naar de ruimtelijke spreiding over de stad kijken dan is er bij de Marokkaanse allochtonen meer sprake van segregatie.
- C De Indische allochtonen wonen vooral in het centrum van de stad.
- D Als we naar de ruimtelijke spreiding over de stad kijken dan is er bij de Marokkaanse allochtonen meer sprake van integratie.

foto 1

Een wijk



- 1p ● 2 Foto 1 is gemaakt in een grote stad. Op deze foto zie je een voorbeeld van
- A een getto.
 - B stadsvernieuwing.
 - C verpaupering.

diagram 1
Gemiddelde jaarlijkse migratie, periode 2000-2005

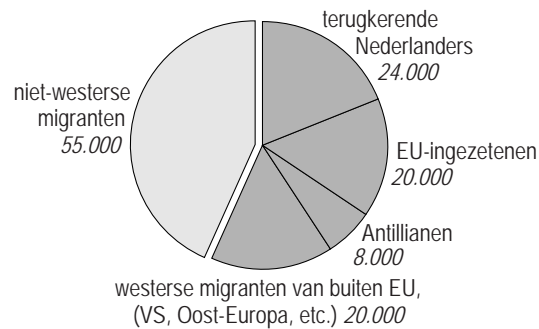


diagram 2
Personen met een uitkering per bevolkingsgroep (cijfers eind 2000)

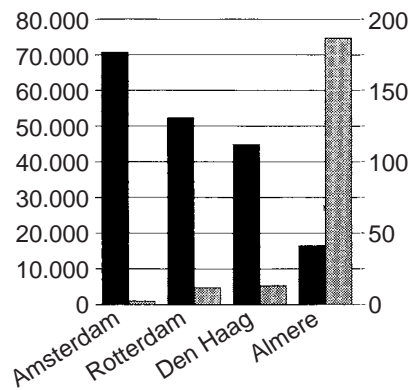


- 2p ○ 3 Naar aanleiding van diagram 1 doet Jan de volgende uitspraken.
- 1 Meer dan de helft van alle migranten in de periode 2000-2005 bestond uit niet-westerse migranten.
 - 2 Het aantal Nederlandse remigranten is 25%.
- Neem de cijfers 1 en 2 over op het antwoordblad en schrijf erachter of deze uitspraak juist is of onjuist.
- 1p ○ 4 Naar aanleiding van diagram 2 zegt Kees: "Het is opvallend dat vooral mensen uit Somalië, Irak en Afghanistan zijn aangewezen op een uitkering."
- Wat is daarvan de oorzaak?

diagram 3

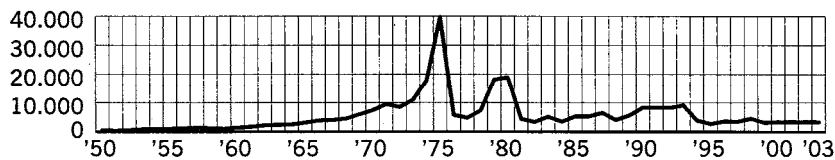
Er gaan steeds meer Surinamers wonen in Almere

Aantal inwoners van Surinaamse afkomst (1ste en 2de generatie) in 2004  Groei% 96- 04 



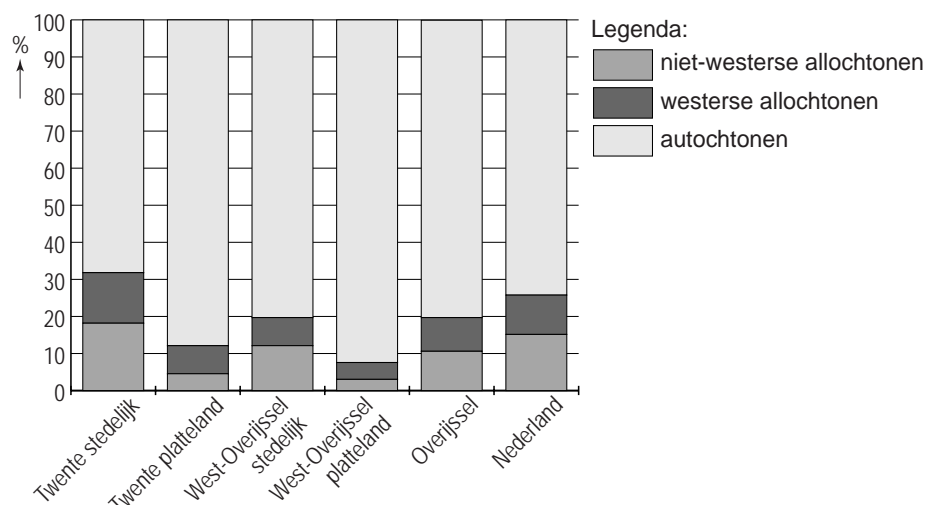
grafiek 1

Immigratie uit Suriname



- 1p ● 5 Er gaan steeds meer Surinamers wonen in Almere (zie diagram 3).
 Waar komen deze Surinamers vooral vandaan?
 A uit Utrecht
 B uit Amsterdam
 C uit Rotterdam
 D uit Den Haag
- 2p ○ 6 Uit het onderdeel 'Immigratie uit Suriname' (grafiek 1) blijkt dat veel Surinamers in 1975 naar Nederland kwamen.
 De integratie van deze groep verliep in het begin niet overal even goed.
 Toch is er na meer dan 25 jaar immigratie op dit moment sprake van een betere integratie van Surinamers in Nederland dan van andere allochtonen zoals Turken en Marokkanen.
 → Noem twee redenen voor deze betere integratie ten opzichte van andere allochtonen zoals Turken en Marokkanen.

diagram 4
Bevolkingssamenstelling in 2002



- 1p ● 7 Naar aanleiding van diagram 4 doet Maarten de volgende uitspraken.
- 1 Het totale aandeel allochtonen bedraagt in stedelijk Twente in 2002 meer dan 40%.
 - 2 Migranten uit de Verenigde Staten, Oost-Europa en de Antillen rekenen we tot de niet-westerse allochtonen.
 - 3 Het percentage allochtonen in de provincie Overijssel ligt boven dat van Nederland.
 - 4 Voor de provincie Overijssel geldt dat in stedelijke gebieden meer allochtonen wonen dan in landelijke gebieden.
- Welke uitspraak is juist?
- A** 1
B 2
C 3
D 4

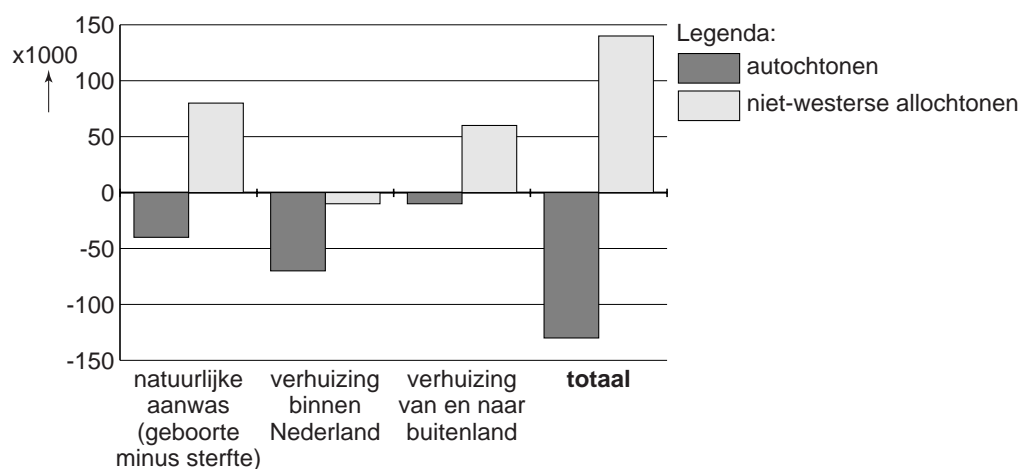
tekst 1

Huwelijksmigratie als hoofdprobleem voor integratie

Van Aartsen van de VVD vindt dat huwelijksmigratie een 'gigantisch probleem' is voor een succesvolle integratie van migranten in Nederland.

- 1p ○ 8 → Leg uit waarom huwelijksmigratie volgens Van Aartsen de kans op een succesvolle integratie bemoeilijkt.

diagram 5

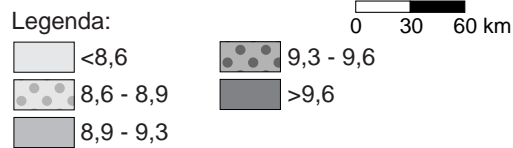
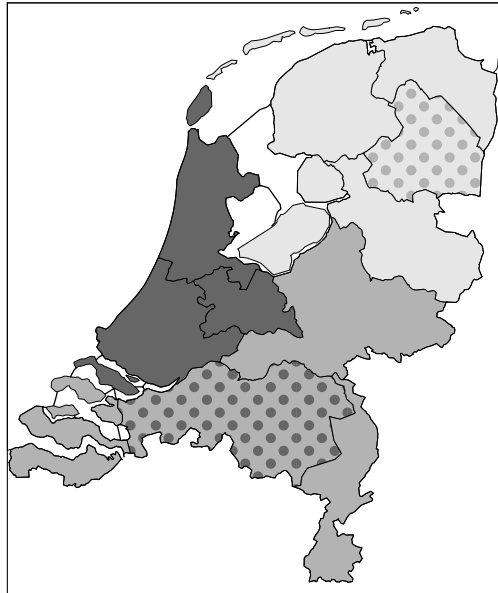
Verandering in de bevolkingssamenstelling van de vier grote steden, 1995-2003

- 2p ○ **9** Diagram 5 laat iets zien over veranderingen in aantallen autochtonen en niet-westerse allochtonen in de vier grote steden Den Haag, Rotterdam, Amsterdam en Utrecht samen. Hieronder volgen twee uitspraken naar aanleiding van diagram 5.
- 1 De belangrijkste oorzaak van de toename van het aantal niet-westerse allochtonen in de vier grote steden tussen 1995 en 2003 is het migratie-overschot.
 - 2 Naast autochtonen zijn er ook niet-westerse allochtonen die binnen Nederland verhuizen en de grote steden verlaten. Dit zullen vooral de economisch sterkeren zijn.
- Neem de cijfers 1 en 2 over op het antwoordblad en zet erachter of deze uitspraak juist is of onjuist.
- 2p ○ **10** Vanaf het jaar 2000 neemt de emigratie en de remigratie weer toe. Twee emigratielanden voor Nederland zijn nu onder andere Canada en Turkije.
- Neem deze twee landen over op het antwoordblad en schrijf achter elk land een reden van mensen om naar dit land te emigreren of te remigreren.

kaarten 3, 4 en 5

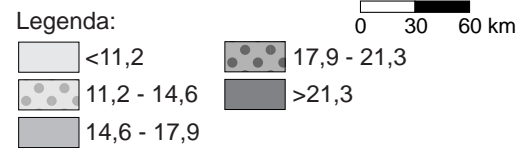
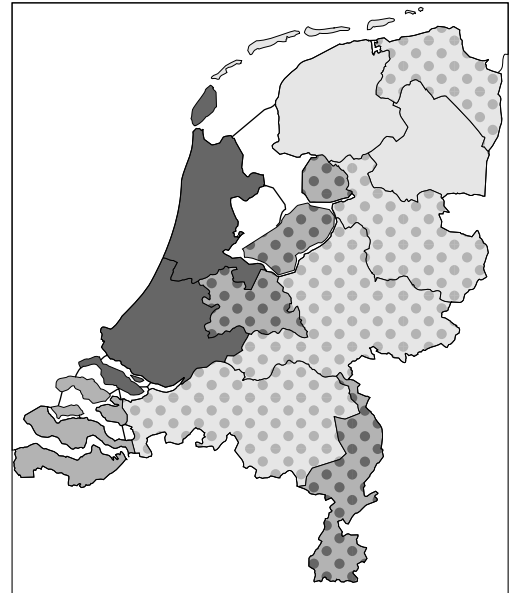
kaart 3

Besteedbaar inkomen per inwoner per provincie (x1000 euro)



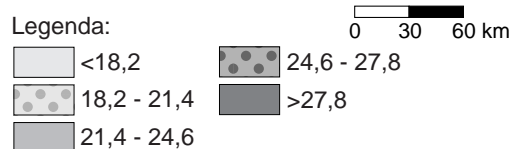
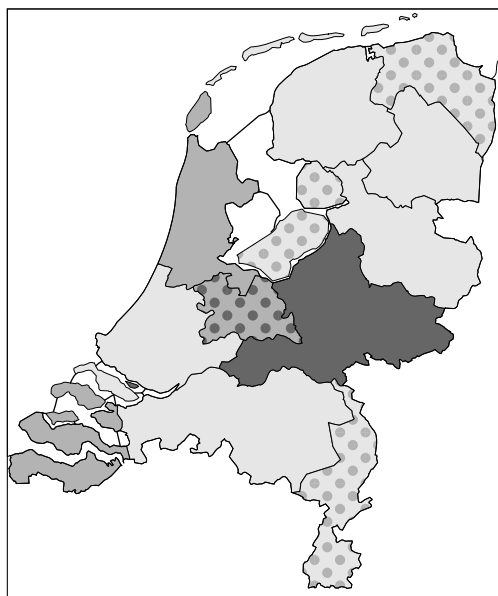
kaart 4

Allochtonen als percentage van de totale bevolking per provincie



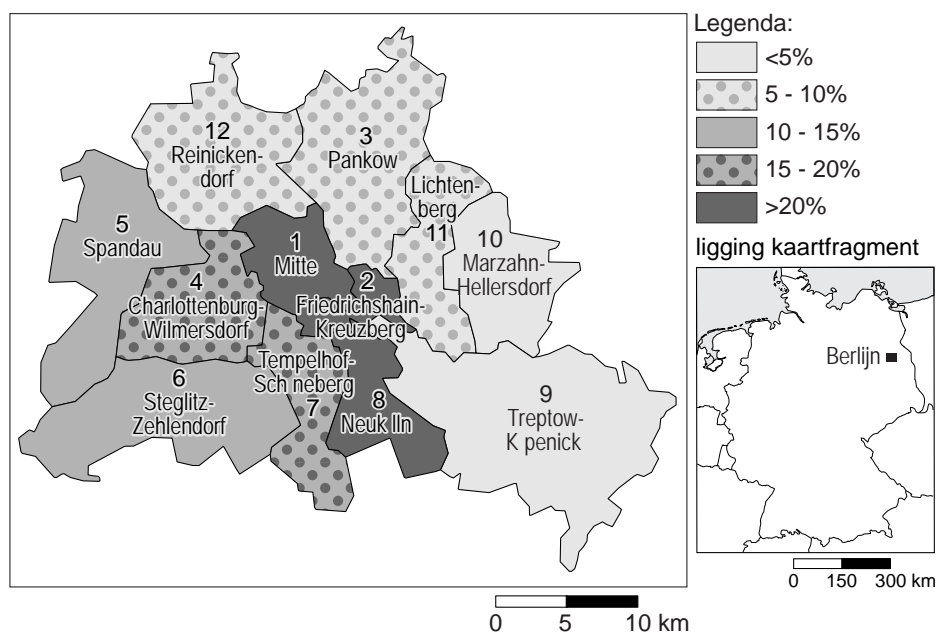
kaart 5

Percentage mensen met een hoog onderwijsniveau per provincie



- 2p ○ **11** In de klas hebben de leerlingen een discussie over de kaarten 3, 4 en 5.
Carla zegt: "In provincies met veel allochtonen is het onderwijsniveau altijd laag."
Ayse zegt: "Uit de kaarten 3, 4 en 5 blijkt een duidelijk verband tussen onderwijsniveau en het besteedbaar inkomen per inwoner."
→ Neem de namen van Carla en Ayse over op het antwoordblad en schrijf erachter of deze uitspraak juist is of onjuist.
- 1p ● **12** Naar aanleiding van de kaarten 3, 4 en 5 doet Leyla de volgende uitspraak: "In de provincies met een laag besteedbaar inkomen per inwoner is het percentage allochtonen ook erg klein."
Er is echter één provincie waar deze uitspraak niet voor klopt.
Voor welke provincie geldt dat?
A de provincie Friesland
B de provincie Overijssel
C de provincie Flevoland
D de provincie Groningen

kaart 6
Berlijn, aandeel allochtonen per stadsdeel, 2005



tabel 1
Verdeling van de verschillende bevolkingsgroepen over vijf stadsdelen in Berlijn

	P	Q	R	S	T
Bevolkingsaantal x 1000	320,7	347,7	315,3	233,8	252,9
Percentage buitenlanders	27,1%	6%	16,7%	3,3%	3,5%
Aantal scholieren	30.809	30.756	29.284	22.641	31.454
Percentage buitenlanders onder de scholieren	39,3%	4,3%	19,5%	3,2%	2,5%

Op kaart 6 staat de verdeling van allochtonen over de stadsdelen van Berlijn (de hoofdstad van Duitsland) aangegeven. De verdeling van de verschillende bevolkingsgroepen over de stad Berlijn vertoont grote overeenkomst met die in de Nederlandse grote steden.

- 1p ● 13 Welke kolom heeft betrekking op stadsdeel 1 (Mitte)?
- A kolom P
 - B kolom Q
 - C kolom R
 - D kolom S
 - E kolom T
- 1p ● 14 In welke drie wijken zul je waarschijnlijk weinig of geen zwarte scholen aantreffen?
- A in de stadsdelen 1, 3 en 4
 - B in de stadsdelen 1, 4 en 10
 - C in de stadsdelen 3, 9 en 10
 - D in de stadsdelen 3, 4 en 9

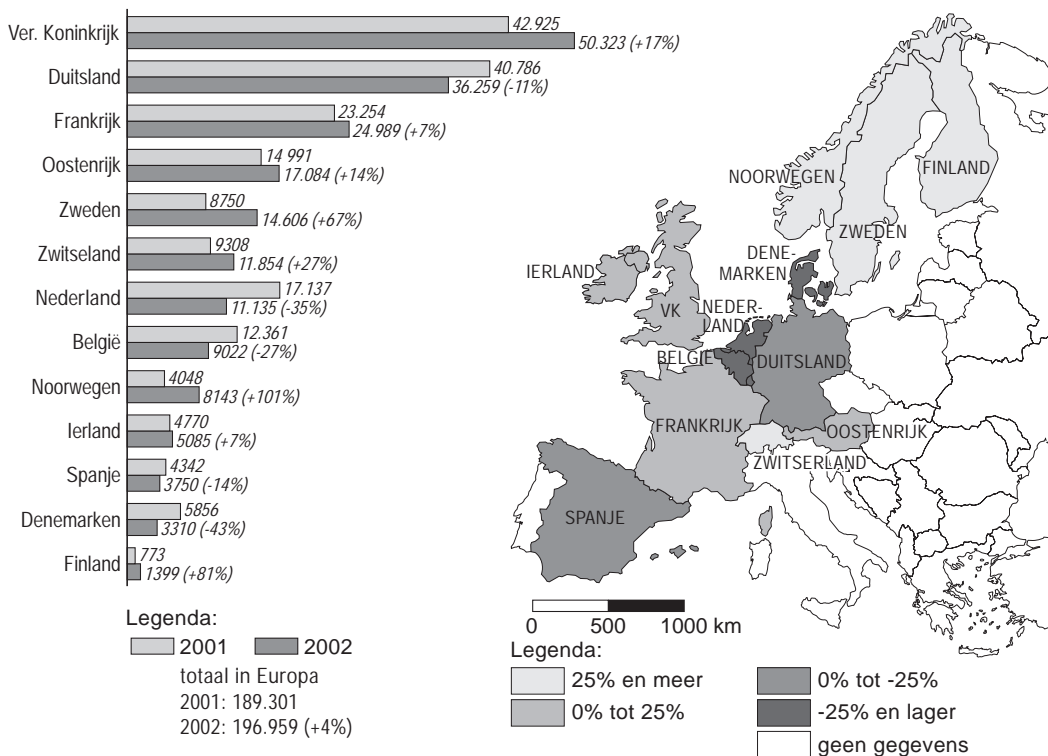
tabel 2

Een vergelijking van enkele sociaal-economische gegevens van enkele delen van de stad New York

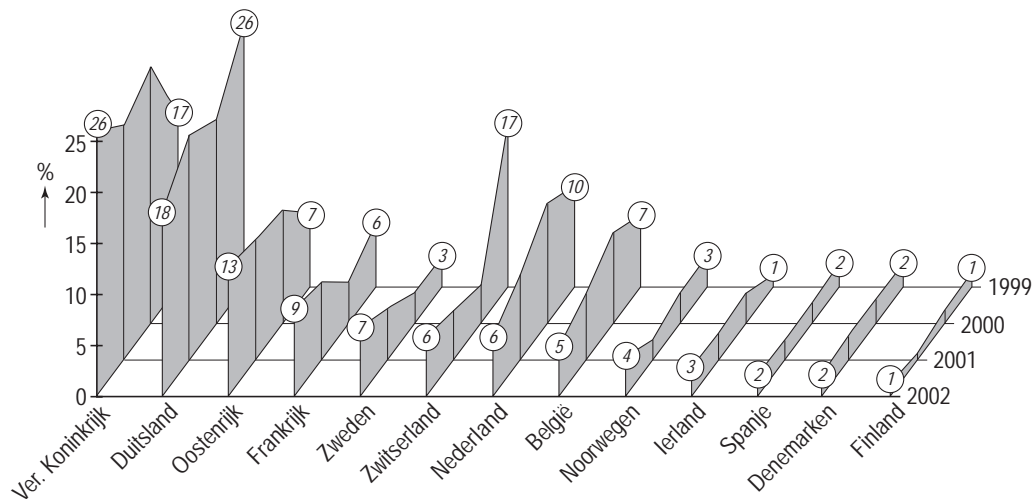
Gegevens		New York City	Manhattan	Harlem	South Bronx
aantal inwoners	1990	7.322.564	1.487.536	209.782	293.063
	2000	8.008.278	1.537.195	225.211	337.497
	ontwikkeling in %	9,4%	3,3%	7,4%	15,2%
aantal woningen	1990	2.992.169	785.127	89.547	98.992
	2000	3.200.912	798.144	99.225	117.342
	ontwikkeling in %	7,0%	1,7%	10,8%	18,5%
woning-eigendom	in % 1990	28,6%	17,9%	4,9%	4,9%
	in % 2000	30,2%	20,1%	6,5%	17,4%
werkloosheid	in % 1990	5,5%	6,4%	11,4%	10,7%
	in % 2000	5,5%	5,4%	8,7%	9,7%
personen onder de armoedegrens	in % 1990	19,3%	20,5%	39,7%	47,0%
	in % 2000	21,3%	20,0%	36,7%	43,1%

- 1p ○ 15 Tabel 2 geeft een aantal gegevens weer waarmee een vergelijking gemaakt kan worden tussen de sociaal-economische ontwikkelingen in verschillende delen van New York. Sommige gegevens zeggen duidelijk iets over de stadsvernieuwingsprojecten in de stad New York.
→ Welk gegeven uit tabel 2 zegt het meest over de stadsvernieuwing?
- 1p ● 16 Welk deel van New York is er volgens tabel 2 tussen 1990 en 2000 procentueel het meest vooruitgegaan op het gebied van stadsvernieuwingsprojecten?
A Manhattan
B Harlem
C South Bronx
- 1p ● 17 In welk deel van New York zullen zich volgens tabel 2, ondanks alle verbeteringen, nog steeds de meeste sociaal-economische problemen voordoen?
A Manhattan
B Harlem
C South Bronx

figuur 1
Aantal asielaanvragen in de eerste zes maanden van 2001 en van 2002 in een aantal Europese landen



grafiek 2
Procentuele verdeling van het aantal asielaanvragen per land (eerste zes maanden)



tekst 2

Het is opvallend dat er zulke grote schommelingen optreden in het aantal asielaanvragen in de verschillende landen van Europa. Blijven ze weg uit Nederland, dan gaan ze naar Engeland of Frankrijk.

- 1p ● **18** Welke twee landen in Europa kenden absoluut gezien de grootste daling in het aantal asielaanvragen in de periode 2001 – 2002 (zie figuur 1)?
- A België en Denemarken
 - B Denemarken en Nederland
 - C Duitsland en Nederland
 - D Duitsland en België
- 1p ○ **19** Grafiek 2 laat de veranderingen van asielaanvragen van 1999 – 2002 zien. Het is opvallend dat er zulke grote schommelingen optreden in het aantal asielaanvragen in de verschillende landen binnen Europa (zie tekst 2).
- Geef de verklaring voor het feit dat de asielaanvragen in sommige landen in korte tijd zo sterk schommelen.
- 1p ● **20** Welk land kende, vergeleken met de andere Europese landen, de grootste relatieve afname in het aantal asielaanvragen in de periode 1 januari 1999 tot 1 juli 2002? Gebruik bij je antwoord grafiek 2.
- A België
 - B Duitsland
 - C Nederland
 - D Verenigd Koninkrijk
 - E Zweden
 - F Zwitserland
- 1p ○ **21** → Door welke pushfactor maken asielzoekers een zeer grote kans om tot een Europees land te worden toegelaten?
- 1p ○ **22** In Nederland houdt een instantie zich bezig met de afhandeling van de asielaanvragen en beslist of een asielzoeker mag blijven.
- Wat is de naam van deze instantie?